

令和3年度 公立高等学校入学者選抜

学力検査問題

社 会

注 意

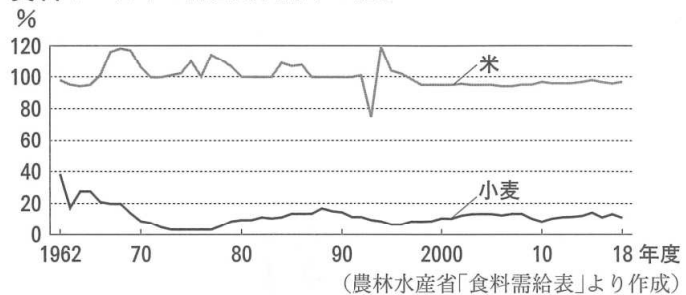
- 1 検査係員の指示があるまで、問題冊子と解答用紙に手をふれてはいけません。
- 2 問題は【問 1】から【問 3】まであり、問題冊子の2～9ページに印刷されています。10ページ以降に問題はありません。
- 3 問題冊子とは別に、解答用紙があります。解答は、すべて解答用紙の の中に書き入れなさい。
- 4 漢字で書くように指示されている場合は、漢字で書きなさい。そうでない場合は、漢字の部分をひらがなで書いてもかまいません。
- 5 字数を指定された解答については、句読点、カギ括弧(「や『)なども1字に数え、指定された字数で答えなさい。

【問 1】 各問いに答えなさい。

I 給食の希望献立の主食を何にしようか迷った夏さんは、自分の好みからだけではなく、原料となる小麦や米について調べてから選ぼうと考えた。

(1) 夏さんは、資料 1 から、米と比べて自給率が低い小麦は、日本のどこで、どのようにして栽培されているのか興味をもち、資料 2 や略地図 1 を使って調べたことや取材したことをノート 1 にまとめた。

資料 1 日本の品目別自給率の推移

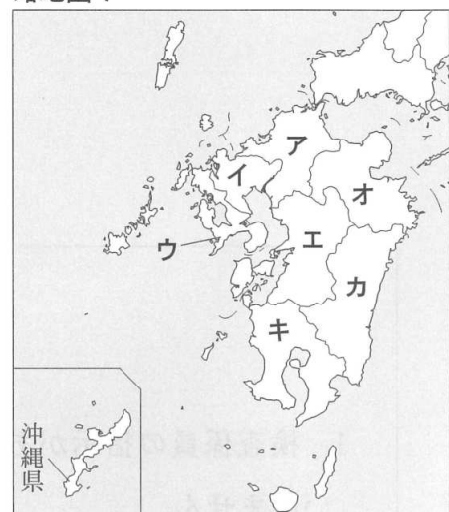


資料 2 2018 年産小麦の収穫量(都道府県別)

順位	項目	都道府県名	収穫量 (t)	作付面積 (ha)
1		北海道	471100	121400
2		福岡	54900	14800
3		佐賀	36900	10100
4		群馬	23100	5680
5		愛知	22800	5390
6		滋賀	19900	6990
7		埼玉	19300	5220
8		三重	19000	6230
9		熊本	15300	4970
10		茨城	13500	4610

(農林水産省「作物統計」より作成)

略地図 1



ノート 1

- 小麦の収穫量が最も多い地方は、北海道地方であり、次に九州地方が多い。
- 北海道地方では、おもに畑で小麦が栽培されているが、九州地方では、冬でも温暖な気候を利用して、おもに稲作が終わったあとの水田で小麦が栽培されている。
- 愛知県と滋賀県を比べると、愛知県のほうが小麦の作付面積は **あ** く、収穫量は **い**。つまり、1 ha 当たりの収穫量は、**う** のほうが多くなる。

- ① ノート 1 の下線部 **a** にかかわって、資料 2 の都道府県のうち、九州地方にふくまれるすべての県について、それらの県の位置を略地図 1 の **ア** ~ **キ** からすべて選び、記号を書きなさい。
- ② ノート 1 の下線部 **b** について、1 年に同じ土地で異なる作物を 1 回ずつ作ることを何というか、漢字 3 字で書きなさい。
- ③ ノート 1 の **あ** ~ **う** に当てはまる語句や県名について、資料 2 から読み取れることをもとに、最も適切なものを、次の **ア** ~ **カ** から 1 つずつ選び、記号を書きなさい。

[**ア** 狭 **イ** 広 **ウ** 少ない **エ** 多い **オ** 愛知県 **カ** 滋賀県]

(2) 夏さんは、小麦の自給率が低いことから、小麦の輸入先について調べ、輸入量の半分近くをしめるアメリカ合衆国の農業の特色について、ノート 2 にまとめた。

ノート 2 **c** アメリカ合衆国では、地域によって気温や降水量、土地などの自然条件が異なるので、それぞれの環境に合った農作物を栽培している。例えば、冬小麦(秋に種をまき、翌年の夏に収穫)と春小麦(春に種をまき、秋に収穫)を、栽培に適したそれぞれの場所で生産している。また、**d** アメリカ合衆国の農業は、日本と比べて就業者 1 人当たりの穀物収穫量が多いことも特徴的だ。

- ① ノート2の下線部cを何というか、漢字4字で書きなさい。
- ② ノート2の下線部dについて、アメリカ合衆国の就業者1人当たりの穀物収穫量は、日本と比べておよそ何t多いか。資料3から読み取れることをもとに、最も適切なものを、次のア～エから1つ選び、記号を書きなさい。

〔ア 140t イ 170t〕
〔ウ 1400t エ 1700t〕

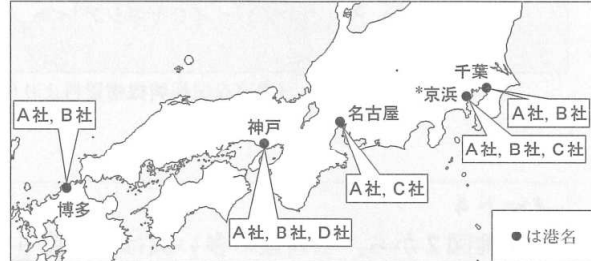
- (3) 夏さんは、小麦を小麦粉に製粉する工場について調べると、大規模な工場の多くは、資料4のように立地していることがわかった。工場はどのような場所に立地しているか、資料1から読み取れることと関連付けて、簡潔に書きなさい。
- (4) 夏さんは、米についても調べ、選ぶ主食について、政府の政策とかかわらせてノート3にまとめた。

資料3 アメリカ合衆国と日本の農業経営の比較(2012年)

項目	国名	アメリカ合衆国	日本
*就業人口 (万人)		241	125
農地面積 (万ha)		40871	455
穀物収穫量 (万t)		35693	1173

*就業人口：FAO(国連食糧農業機関)統計内の「農業経済活動人口」(「FAOSTAT」等より作成)

資料4 大手製粉企業の製粉工場のおもな立地



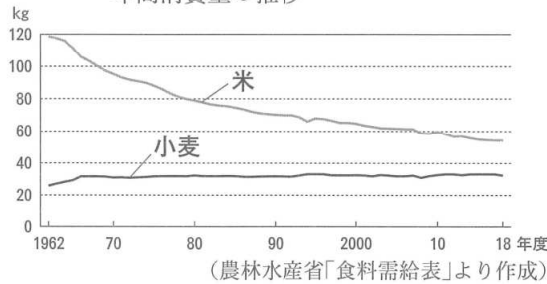
*京浜：京浜港(東京港・川崎港・横浜港)

(農林水産省資料等より作成)

ノート3

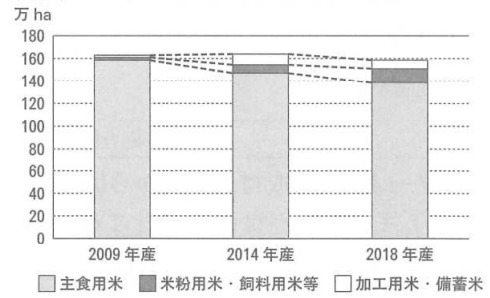
- 資料1のように米は小麦と比べて自給率は高い。しかし、資料5のように「え」ことが理由の1つとなって、資料6のように主食用米の水稲作付面積が減少している。
- 政府は、食料自給率の向上を目指す政策の1つとして、2009年から水田で、主食用米に加え、「米粉用米」(パンなどに加工できる米粉に製粉するための米)を栽培することを推奨している。
- 最初に私は、小麦の自給率を向上させたいと思い、国産の小麦を使ったパンを選ぼうと思った。しかし、米にも資料5, 6のような現状があることを知り、国産の小麦を使ったパンでよいか迷い始めた。そんな時、資料7の方針や資料8を見て、米粉を使った主食を選びたいと思った。

資料5 日本国民1人当たりの米と小麦の年間消費量の推移



(農林水産省「食料需給表」より作成)

資料6 水稲作付面積の内訳の推移

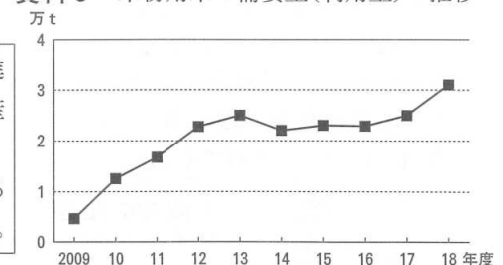


資料7 食料自給率向上にかかわる日本国政府の方針の一部(2020年)

今後も需要が見込まれる穀物を水田で栽培することを促進する。そのことで我が国の気候風土に適した持続的な食料生産基盤である水田を維持し、有効活用することができる。

このことは、我が国の食料を安定的に供給する力の強化を図る上で極めて重要であり、食料自給率の更なる向上につながる。

資料8 米粉用米の需要量(利用量)の推移



(資料6～8は農林水産省「米粉をめぐる状況について」等より作成)

- ① ノート3の「え」に当てはまる言葉を、資料5から読み取れることをもとに、簡潔に書きなさい。
- ② ノート3の下線部eにかかわって、政府は、米粉用米の栽培を2020年以降も推奨した。このように米粉用米の栽培は、食料自給率の向上につながると政府が期待する理由を、資料7の方針と、資料6, 8からそれぞれ読み取れることを関連付けて、簡潔に書きなさい。

II 夏さんは、大好きなタピオカがキャッサバという、いもの一種からつくられることに興味をもち、調べた。

(1) 夏さんは、キャッサバを生産する地域について、略地図2や資料9、10を使い、ノート4にまとめた。

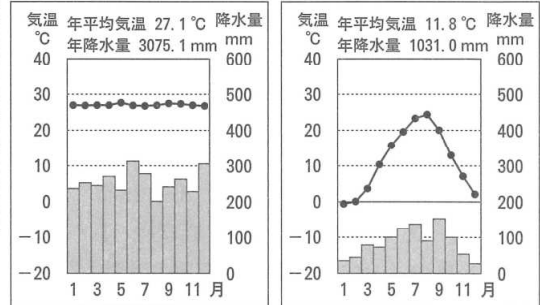
略地図2

※キャッサバの生産量の多いおもな5か国に着色してある。



(農畜産業振興機構資料より作成)

資料9 インドネシア 都市A
資料10 長野県 松本市



(資料9、10は気象庁資料より作成)

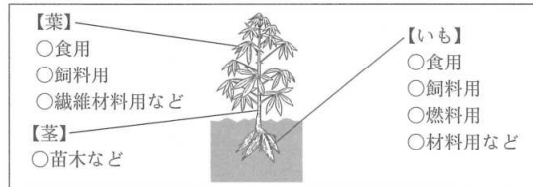
ノート4

○略地図2から、生産量の多い国は、f緯度0度の緯線付近に集まっている。また、gアジア州にも生産量が多い国がある。

○資料9、10を比べると、キャッサバが栽培されている地域の気候の特色は、**お**、年降水量が多い、熱帯の気候である。

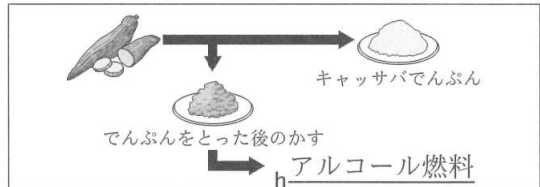
- ① ノート4の下線部fの緯線を何というか、漢字2字で書きなさい。
 - ② ノート4の下線部gについて、アジア州をさらに細かく区分したとき、タイやインドネシアがふくまれる地域を何アジアというか、書きなさい。
 - ③ ノート4の**お**に当てはまる言葉を、熱帯の気温の特色にふれて8字以上14字以内で書きなさい。
- (2) 夏さんは、キャッサバについて取材したことを、資料11、12を使い、ノート5にまとめた。

資料11 キャッサバの活用



(国際協力機構資料より作成)

資料12 キャッサバのいもの活用例



(新エネルギー・産業技術総合開発機構資料より作成)

ノート5 【取材先の方から聞いたこと】

- iキャッサバはむだなところがない。
- キャッサバは、j持続可能な社会に貢献できる作物の1つとして期待されている。

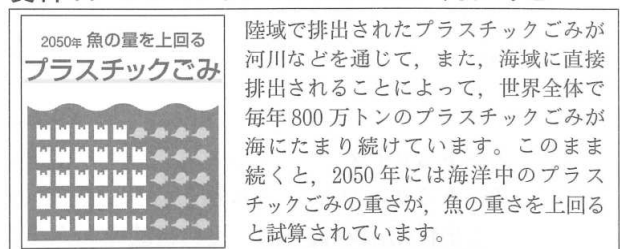
- ① 資料12の下線部hについて、植物原料からつくられるアルコール燃料を何というか、書きなさい。
 - ② ノート5の下線部iのようにいわれる理由の1つとして考えられることを、資料11、12からそれぞれ読み取れることにふれて、簡潔に書きなさい。
- (3) ノート5の下線部jのように期待される理由の1つとして考えられることを、資料13、14からそれぞれ読み取れることを関連付けて、簡潔に書きなさい。

資料13 キャッサバでんぶんからつくられた袋



(インドネシア企業V社資料等より作成)

資料14 プラスチックごみにかかわる今後の予想



(環境省・経済産業省資料より作成)

【問 2】 コンビニエンスストアに買い物に行った桜さんは、飲み物売り場で多くの種類の茶が売られていることに興味をもち、茶を飲む習慣について調べた。各問いに答えなさい。

(1) 桜さんは、日本への茶の伝来について調べ、ノート 1 にまとめた。

ノート 1 滋賀県の日吉大社近くの茶園が、日本で茶を栽培した畑として、最も古いものだという伝承がある。[あ]とともに中国へ渡った最澄が、茶の種子を持ち帰り植えたことが、この茶園の始まりであると伝えられている。b 平安時代には、天皇や貴族、僧など一部の人が茶を飲んだ。その後、茶を飲む習慣は一時衰えた。

① ノート 1 の [あ] に当てはまる語句として最も適切なものを、次のア～エから 1 つ選び、記号を書きなさい。

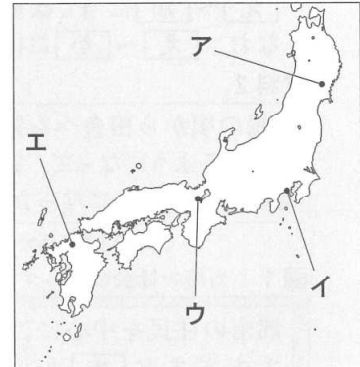
[ア 遣隋使 イ 朝鮮通信使 ウ 倭寇 エ 遣唐使]

② ノート 1 の下線部 a にかかわって、この茶園は、最澄が延暦寺を建てた、比叡山のふもとに立地する。比叡山延暦寺の位置として最も適切なものを、略地図のア～エから 1 つ選び、記号を書きなさい。

③ ノート 1 の下線部 b にかかわって、この時代に起きたできごととして適切なものを、次のア～エから 2 つ選び、記号を書きなさい。

[ア 東大寺や国分寺、国分尼寺が建てられた。
イ 平将門が武士団を率いて、朝廷に反乱を起こした。
ウ 北条泰時が、御成敗式目を定めた。
エ 浄土信仰が広がり、平等院鳳凰堂が建てられた。]

略地図



(2) 桜さんは、茶を飲む習慣がその後再び、どのように広がっていったかを調べ、ノート 2 にまとめた。

ノート 2 仏教の 1 つの宗派である [い] を中国から伝えた栄西が、新しい茶の製法を日本に伝えたことで、寺院を中心に茶が飲まれるようになった。その後、茶を飲む習慣が寺院以外にも広がり、やがて茶の湯が豪商や戦国大名の間で流行した。さらに、わび茶という作法が完成し、当時の日本の茶の文化が、南蛮人などによってヨーロッパにも紹介された。

① ノート 2 の [い] に当てはまる宗派として最も適切なものを、次のア～エから 1 つ選び、記号を書きなさい。

[ア 日蓮宗 イ 禅宗 ウ 浄土宗 エ 浄土真宗]

② ノート 2 の下線部 c にかかわって、資料 1 は、茶の湯をわび茶として完成させた人物の肖像画である。商人出身で、豊臣秀吉にも仕えたこの人物は誰か、人物名を漢字 3 字で書きなさい。

③ ノート 2 の下線部 d にかかわって、16 世紀から 17 世紀にかけて、南蛮人とよばれた人々が日本にやってきたことにより、日本で起きたできごととして適切なものを、次のア～エから 2 つ選び、記号を書きなさい。

[ア 織田信長は鉄砲を効果的に使い、長篠の戦いで勝利した。
イ 宋銭が輸入され、初めて定期市が開かれるようになった。
ウ 漢字を変形させ、かな文字が生まれた。
エ 活版印刷術により、『平家物語』がローマ字で印刷された。]

資料 1



(表千家不審庵)

(3) 桜さんは、日本の茶の世界への広がりや、日本での茶を飲む習慣の広がりを調べ、ノート3にまとめた。

ノート3 江戸時代初め、**う**が日本から茶を輸入した。これがヨーロッパに伝わった初めての日本の茶とされる。長崎の出島で**う**が日本と貿易を続けていた江戸時代中ごろ、京都の宇治で現在とほぼ同じ製法が開発され、茶を飲む習慣が庶民にもさらに広がった。

- ① ノート3の**う**に当てはまる最も適切な国を、次のア～エから1つ選び、記号を書きなさい。
 [ア スペイン イ ポルトガル ウ オランダ エ フランス]
- ② ノート3の下線部eにかかわって、桜さんは、その背景の1つとして考えられる当時の社会のようすについて、資料2、3をもとに調べ、付せんを書きだして、図1のように並べた。図1の**え**～**か**に当てはまる最も適切な語句を、下のア～カから1つずつ選び、記号を書きなさい。
 なお、**え**～**か**には、それぞれ異なる記号が入る。

資料2

元禄の頃から田舎へも銭が行き渡るようになって、銭でものを買うようになった。

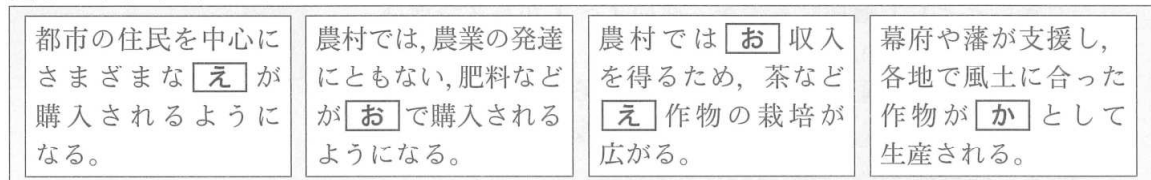
(「政談」より部分要約)

資料3

金銀を手に入れる方法として、売買ほど手取り早いものはない。…産物の少ないところは、土地の特色に合わせて、木でも草でも役に立つものを植えて、産物を増やすべきである。

(「経済録拾遺」より部分要約)

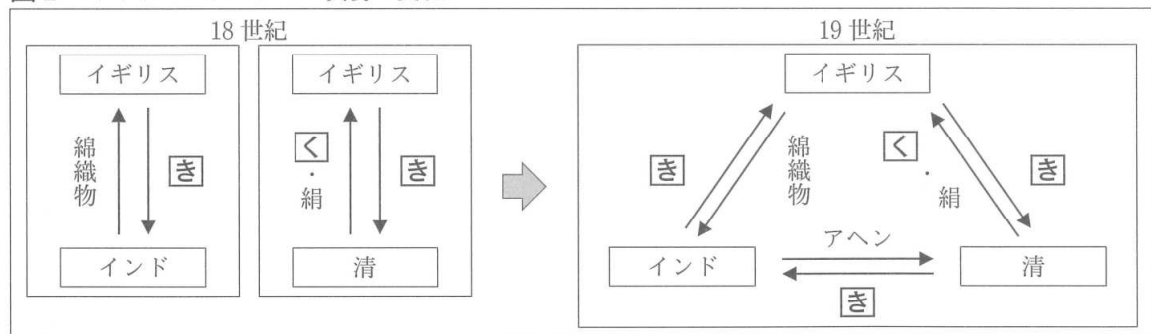
図1 当時の社会のようす



[ア 特産物 イ 香辛料 ウ 年貢米 エ 現金 オ 唐物 カ 商品]

(4) イギリスでは茶がよく飲まれているという印象をもつ桜さんは、18世紀から19世紀にかけてのイギリスの茶にかかわる貿易の変化について調べ、図2とノート4にまとめた。

図2 イギリスのアジアでの貿易の変化



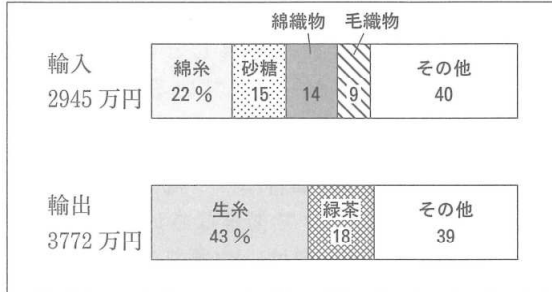
ノート4 イギリスは、インドからは綿織物などを、清からは**く**や絹などを輸入し、両国へ**き**を支払ったため、**き**が不足し、貿易は**け**となった。そのため、当時、インド支配を始めていたイギリスは、インド産のアヘンを清へ輸出して**き**を獲得するようになった。その後、**f**清はアヘンについて厳しく取りしまり、売買を禁じた。

- ① 図2、ノート4の**き**、**く**にそれぞれ共通して当てはまる語句と、ノート4の**け**に当てはまる語句の組み合わせとして最も適切なものを、次のア～カから1つ選び、記号を書きなさい。
- | | | | | | | | | | | | | |
|---------------|---------------|--------------|--------------|--------------|--------------|-------------|--------------|--------------|--------------|--------------|-------------|--------------|
| ア き 銅銭 | ウ き 銅銭 | オ き 茶 | イ き 銀 | エ き 茶 | カ き 銀 | ク 茶 | ケ 赤字 | イ き 銀 | エ き 茶 | カ き 銀 | ク 茶 | ケ 赤字 |
| ウ き 銅銭 | オ き 茶 | イ き 銀 | エ き 茶 | カ き 銀 | ク 茶 | ケ 黒字 | イ き 銀 | エ き 茶 | カ き 銀 | ク 茶 | ケ 黒字 | イ き 銀 |
| ウ き 銅銭 | オ き 茶 | イ き 銀 | エ き 茶 | カ き 銀 | ク 茶 | ケ 黒字 | イ き 銀 | エ き 茶 | カ き 銀 | ク 茶 | ケ 黒字 | イ き 銀 |
- ② ノート4の下線部fにかかわって、その後、日本や清で起きたできごとが、古い順になるように、次のア～エを左から並べて、記号を書きなさい。
- | | |
|---------------------|--------------------------|
| ア 幕府は、異国船打払令をゆるめた。 | イ 日米修好通商条約が結ばれ、5つの港を開いた。 |
| ウ ペリーが浦賀に軍艦4隻で来航した。 | エ イギリスは、清に対して戦争を起こした。 |

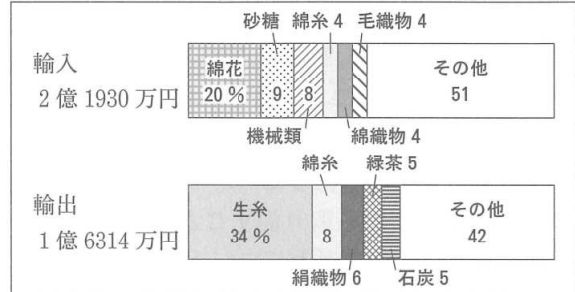
- (5) 桜さんは、近代の日本での茶にかかわるできごとについて調べ、ノート5にまとめた。

ノート5 明治時代、資料4、5のように緑茶は海外に輸出された。資料4から資料5への貿易の変化をみると、輸出全体にしめる緑茶の割合は「こ」くなってきており、g貿易品目も変化している。また、都市では欧米風の生活様式が広がり、イギリスなどから紅茶が輸入されるようになった。

資料4 日本の貿易品目(1882年)



資料5 日本の貿易品目(1897年)



(資料4、5は「日本貿易精覧」より作成)

- ① ノート5の「こ」に当てはまる最も適切な語句を書きなさい。
 ② ノート5の下線部gにかかわって、桜さんは、資料4、5から綿にかかわる貿易品目の変化が読み取れることに気づき、資料6を見つけた。資料6のような工場が開業したことにより、綿にかかわる貿易は、綿糸や綿織物を輸入する貿易から、どのような貿易へ変化したか、資料4、5から読み取れることをもとに、原料、輸出の2語を使って、簡潔に書きなさい。

資料6 1883年に開業した大阪の紡績工場のようなす

著作権の関係で掲載できません。

(不明)

- (6) 桜さんは、茶を飲む習慣について調べてきたことを発表し、友だちとふり返った。

会話文

桜：中国から日本に伝わった茶は、その後、長い時間をかけて、多くの人に飲まれるようになったね。
 春：ヨーロッパに日本の茶が伝わったのは、江戸時代のころだったんだね。
 夏：h今も日本から海外への緑茶の輸出は続いているんだよね。
 桜：i茶は日本と世界を結び、人と人をつなぐ飲み物になっていると感じたよ。

- ① 会話文の下線部hにかかわって、資料7、8から読み取れることとして適切なものを、次のア～エから2つ選び、記号を書きなさい。

- ア 2013年と2018年を比較すると、日本の緑茶の輸出先は増え、アメリカと台湾への輸出量の差は縮まった。
 イ 2013年と2018年を比較すると、日本の緑茶の総輸出額と輸出量の両方が2倍以上に増加した。
 ウ 2013年から2018年の間に日本の緑茶の輸出先は増え続けたが、アメリカへの輸出量は減る年があった。
 エ 2013年から2018年の間に、日本の緑茶のアメリカへの輸出額は増え続け、輸出量にしめるアメリカの割合も高くなり続けた。

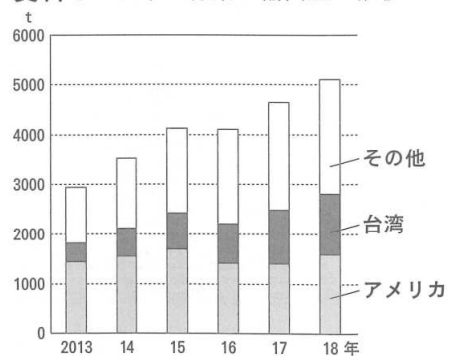
- ② 会話文の下線部iにかかわって、多くの人、物、お金、情報などが国境をこえて移動することで、世界の一体化が進んでいる。これを何というか、最も適切な語句を次のア～エから1つ選び、記号を書きなさい。

- ア インフォームド・コンセント イ グローバル化
 ウ ユニバーサルデザイン エ バリアフリー

資料7 日本の緑茶の輸出先(国・地域)と輸出額の推移

項目 \ 年	2013	14	15	16	17	18
輸出先(国・地域数)	49	59	60	64	68	71
総輸出額(億円)	66	78	101	116	144	153
アメリカへの輸出額(億円)	31	34	44	48	59	68

資料8 日本の緑茶の輸出量の推移



(資料7、8は財務省貿易統計より作成)

【問 3】 15歳の春さんは、兄と次のような会話をした。各問いに答えなさい。

会話文

春：学校で「大人になる年齢が、18歳になります」というポスターを見たんだけど、どうということかな。
 兄：成年年齢を20歳から18歳に引き下げるんだよ。今まで20歳からだった携帯電話のa契約や、クレジットカードをつくることなどが、18歳から親の同意を得なくてもできるようになるんだ。
 春：契約が親の同意を得なくてもできるなんて、「大人」だね。いつから引き下げになるのかな。
 兄：2022年だよ。b成年年齢の見直しは、約140年ぶりなんだ。年齢の見直しといえば、すでに2016年からc選挙権年齢も満18歳以上に引き下げになり、選挙が行われているよね。
 春：私もあと3年で「大人」になるから、経済や、d政治や選挙についてしっかり勉強しておこう。

- (1) 会話文の下線部aについて、訪問販売などで消費者が契約をした場合に、一定期間以内であれば無条件で契約を取り消すことができる制度を何というか、カタカナで書きなさい。
- (2) 会話文の下線部bについて、約140年前の明治時代の初め、日本では、欧米の文化や生活様式が取り入れられ、都市を中心に伝統的な生活が変化した。このことを何というか、漢字4字で書きなさい。
- (3) 会話文の下線部cにかかわって、春さんは、資料1を使い、選挙権にかかわる変化について調べた。

① 資料1の実施年のうち、納税額による制限が廃止され、満25歳以上の男子に選挙権があたえられてから初めて実施された選挙の年として最も適切なものを、資料1から選び、その実施年を書きなさい。

② 日本国憲法で保障されている、一定の年齢以上のすべての国民が選挙権を得るという原則を何というか。最も適切なものを、次のア～エから1つ選び、記号を書きなさい。

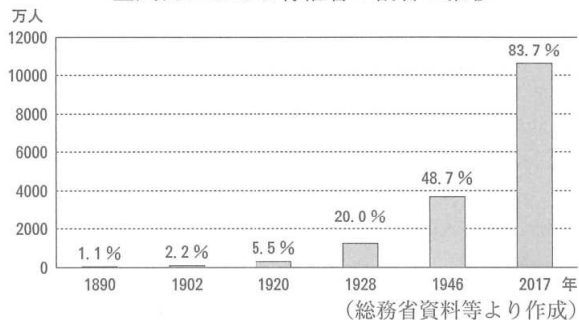
- 〔 ア 普通選挙 イ 平等選挙
 ウ 秘密選挙 エ 直接選挙 〕

- (4) 会話文の下線部dについて、日本の国と地方の政治や選挙について述べた文のうち、適切なものを、次のア～オからすべて選び、記号を書きなさい。

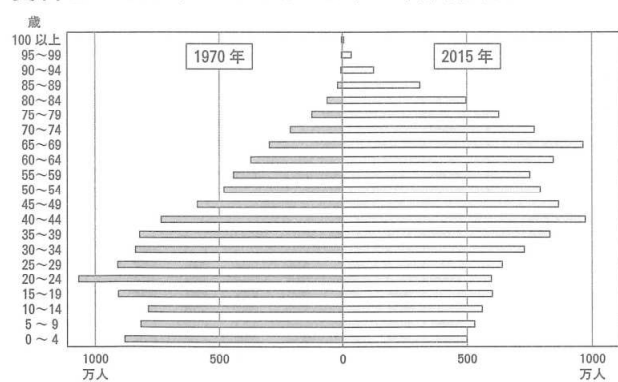
- 〔 ア 地方公共団体の間の財政格差をおさえるために国から配分されるのは、国庫支出金である。
 イ 参議院議員や都道府県知事に立候補する被選挙権は、満30歳以上の国民に認められている。
 ウ 地方公共団体は、法律の範囲内で条例を制定することができる。
 エ 内閣総理大臣、都道府県知事は、いずれも住民投票によって選ばれる。
 オ 政府が景気の回復をうながしたり、行きすぎを防いだりすることを財政政策という。 〕

- (5) 春さんは、「なぜ日本は選挙権年齢を満20歳以上から満18歳以上に引き下げたのか」という疑問をもち、資料2～4を使って調べたり、ノートに取材したことをまとめたりした。

資料1 衆議院議員総選挙実施年における有権者数と全人口に占める有権者の割合の推移

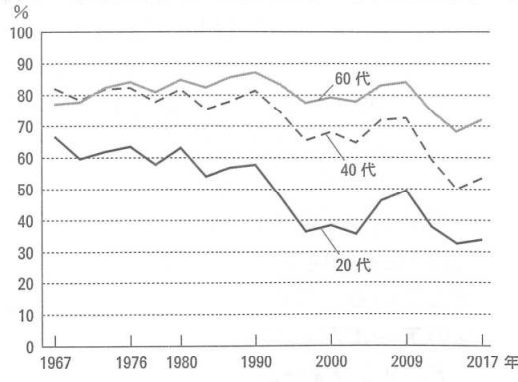


資料2 1970年と2015年の日本の年齢別人口




(国立社会保障・人口問題研究所資料等より作成)

資料3 衆議院議員総選挙実施年と年代別投票率の推移



(総務省資料より作成)

資料4 世界各国・地域における選挙権を得る年齢の割合(2015年)



※ 189の国・地域の調査による。

(国立国会図書館資料より作成)

ノート

- 政府は、若い世代の意見が政治にもっと反映されるようにしたいと考えている。
- 政府が、選挙権を得る年齢を18歳とする際に参考にしたことの1つは、**あ**である。

① ノートの下線部eのように政府が述べている理由の1つとして考えられることを、20代に着目して、資料2, 3からそれぞれ読み取れることにふれて、簡潔に書きなさい。

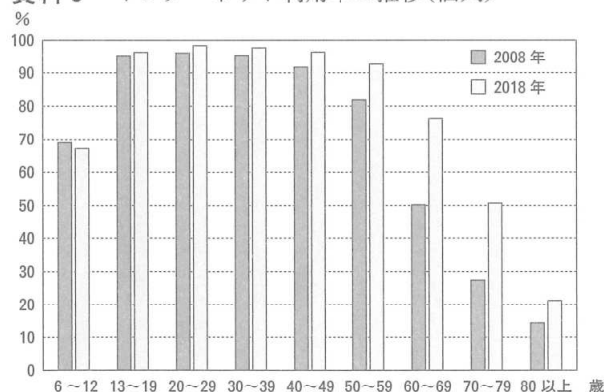
② ノートの**あ**に当てはまる言葉を、資料4から読み取れることをもとに、選挙権という語を使って、簡潔に書きなさい。

(6) 春さんのクラスでは、資料3を取り上げて、投票率を上げる方法について話し合った。その中で、「投票所で投票用紙に記入する投票方法等に加えて、スマートフォンやタブレット等を用いて、インターネットを通じて投票するインターネット投票を導入すれば、いつでもどこでも投票できるから、投票率が上がるのではないか」という意見が出された。そこで、「インターネット投票」による投票方法を導入することについて、資料5～8を集めて考えた。「インターネット投票」による投票方法を導入するとした場合に、期待されること(期待)と心配されること(心配)について、条件1, 2に従って書きなさい。なお、数字の場合は1字1マス使うこと。


条件1：期待と心配の根拠となる資料を、資料5～8から1つずつ選び、その資料の番号を書くこと。ただし期待と心配、それぞれ別の資料を選ぶこと。

条件2：選んだ資料をもとに、起こりうる期待と心配を、それぞれ40字以上60字以内で書くこと。

資料5 インターネット利用率の推移(個人)



資料6 投票所までの時間と投票率(2018年)



(明るい選挙推進協会資料より作成)

資料7 「企業がインターネットを用いた通信を利用する上での問題点」のアンケート項目と「当てはまる」と答えた企業の割合

アンケート項目	年	
	2008	2018
*セキュリティ対策の確立が困難	61.8%	45.0%
運用・管理の費用が増大	38.8%	41.7%
障害時の復旧作業が困難	26.6%	29.2%
本人確認を行う技術の信頼性に不安	6.4%	3.4%

*セキュリティ対策：システムへのウイルス感染、不正侵入、情報が外にもれること等を防ぐ対策のこと。

※複数回答可能なアンケートであり、回答の一部を掲載している。

資料8 投票しにくい状況にある選挙人と投票方法

【身体に障がいのある人】	市区町村の選挙管理委員会に投票用紙等を請求し、自宅等で記載し、郵送する等
【仕事や留学等で国外にいる人】	出国前または出国後に手続きをした上で、国外で投票する等
【仕事等で、船で外国の洋上(海)にいる人】	事前に手続きをした上で、洋上からファクシミリで投票する等
【選挙期間中に仕事や用事のある人】	各市区町村に設けられる「期日前投票所」で投票する

(資料5, 7, 8は総務省資料より作成)

これより先に問題はありません。

下書きなどが必要なときには、自由に使ってかまいません。