

令和 2 年度 (2020 年度) 公立高等学校入学者選抜

学力検査問題

社 会

注 意

- 1 検査係員の指示があるまで、問題冊子と解答用紙に手をふれてはいけません。
- 2 問題は【問 1】から【問 3】まであり、問題冊子の 2～9 ページに印刷されています。10 ページ以降に問題はありません。
- 3 問題冊子とは別に、解答用紙があります。解答は、すべて解答用紙の の中に書き入れなさい。
- 4 漢字で書くように指示されている場合は、漢字で書きなさい。そうでない場合は、漢字の部分をひらがなで書いてもかまいません。
- 5 字数を指定された解答については、句読点、カギ括弧(「や『)なども 1 字に数え、指定された字数で答えなさい。

【問 1】 春さんは、元号(年号)に「和」という漢字が多く使用されていることを知り、そのうちのいくつかをおもなできごととあわせてカード1～4に書き出し、各時代の政治について調べた。各問いに答えなさい。

カード1	「 <u>和銅</u> 」…平城京が造られ、 <u>律令</u> にもとづく政治が行われていた。
古代	「 <u>長和</u> 」…藤原道長が摂関政治を行っていた。

(1) カード1の下線部aにかかわって、次の①、②の位置として適切なものを、地図のア～エから1つずつ選び、記号を書きなさい。

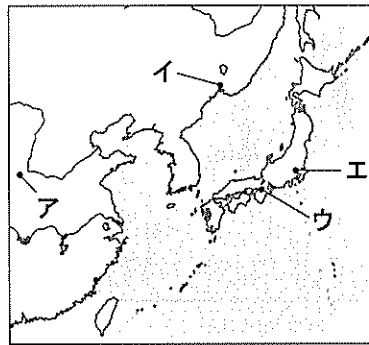
- ① 平城京
- ② 平城京を造る際に手本にした都市

(2) カード1の下線部bにかかわって、資料1の「あ」に当てはまる適切な語句を、漢字3字で書きなさい。

(3) カード1の下線部cにかかわって、図1から読み取れることとして最も適切なものを、次のア～エから1つ選び、記号を書きなさい。

- ア 道長には男女合わせて5人の子がいた。
- イ 道長の4人の娘はすべて天皇の「后」となった。
- ウ 道長の娘の子はすべて天皇になった。
- エ 道長と道長の息子はすべて摂政となった。

地図

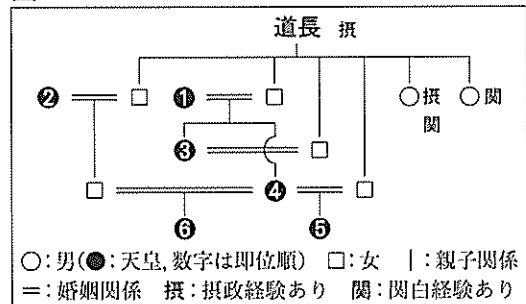


資料1 律令のきまり

・戸籍は6年に1度つくれ。
 ・「あ」を与えるについては、男には二*段、女にはその三分の一を減らして与えよ。

*段：面積の単位
 (「令義解」より部分要約)

図1 皇室と藤原氏との関係



カード2	「 <u>正和</u> 」…鎌倉時代の末期であり、将軍と御家人は御恩と奉公の関係で結ばれていた。
中世	

(4) カード2の下線部dにかかわって調べた。

① 将軍からの御恩に当たるものとして最も適切なものを、資料2の下線部⑦～⑩から1つ選び、記号を書きなさい。

資料2 北条政子の言葉

亡き頼朝公が朝廷の敵をたおし、幕府を開いてから、⑦官位や土地などその恩は山よりも高く海よりも深い…⑧名譽を大切にする者は、⑨京都に向かって出陣し、⑩敵をうち取り幕府を守りなさい。

(「吾妻鏡」より部分要約)

② 資料3は何とよばれる法令か、漢字3字で書きなさい。

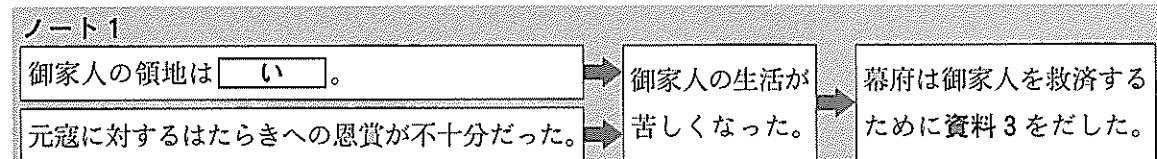
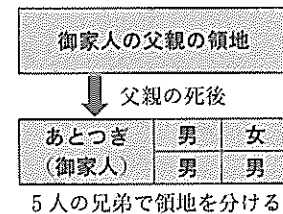
資料3 元寇後にだされたきまり(1297年)

領地を質に入れたり、売買したりすることは、御家人らの生活が苦しくなるもとである。今後は禁止する。

(「東寺百合文書」より部分要約)

③ 春さんは、資料3がだされた理由についてノート1にまとめた。ノート1の「い」に当てはまる適切な言葉を、図2から読み取れることをもとに、相続という語を使って、簡潔に書きなさい。

図2 鎌倉時代の御家人が領地を相続するイメージ



カード3	「元和」…徳川秀忠の時に初めて、武家諸法度がだされ、以後、将軍の代がわりごとに示された。
近世	「天和」…徳川綱吉が、儒学の教えを重んじた。

(5) カード3の下線部 e にかかわって、次のア～エは近世にだされたきまりである。このうち、武家諸法度の条文の内容として適切なものを2つ選び、記号を書きなさい。

- ア この安土の町は楽市としたので、いろいろな座は廃止し、さまざまな税や労役は免除する。
- イ 諸国の城は、修理をする場合であっても、必ず幕府に申し出ること。
- ウ 大名が自分の領地と江戸とを交代で住むように定める。毎年4月に江戸へ参勤せよ。
- エ 諸国の百姓が刀や脇差、弓、槍、鉄砲、その他の武具などをもつことは、かたく禁止する。

(6) カード3の下線部 f にかかわって、儒学のうち、特に主従関係や身分秩序を重視し、寛政の改革のときに幕府の学校で教えることが認められた学問を何というか、最も適切なものを、次のア～エから1つ選び、記号を書きなさい。

- [ア 国学 イ 蘭学 ウ 朱子学 エ 陽明学]

カード4	「昭和」…第二次世界大戦後に日本国憲法が制定され、新しい法律もつくられた。
近代、現代	

(7) カード4の下線部 g にかかわって、春さんは、資料4を読んで考えたことをノート2にまとめた。

資料4 2つの憲法の条文の内容

大日本帝国憲法	第29条 日本臣民は法律の範囲内に於て言論著作*印行集会及び結社の自由を有す。
日本国憲法	第11条 国民は、すべての基本的人権の享有を妨げられない。この憲法が国民に保障する基本的人権は、侵すことのできない永久の権利として、現在及び将来の国民に与えられる。 第21条 集会、結社及び言論、出版その他一切の表現の自由は、これを保障する。

*印行：印刷して発行すること。

(「法令全書」等より作成)

ノート2 元号にかかわる調べ学習をとおして、時代ごとに政治の主体になる人がきまりをつくり、政治が変化してきたことがわかった。そのもとで、人々は生活を統制されたり権利を制限されたりした。近代に入ると、資料4の大日本帝国憲法では、国民の権利が認められるようになったが、例えば、言論の自由は、うで保障されるにとどまった。現代に入ると、h日本国憲法によって、国民の基本的人権は侵すことのできない権利として保障されるようになった。同時に、国を治める権利は国民がもつというえの考え方が規定された。このようにして民主的な国がつけられ、国民一人ひとりが尊重される時代となった。「令和」の時代は、私たちが政治の担い手としてよりよい国をつくっていきたい。

- ① ノート2のうに当てはまる最も適切な言葉を、資料4から6字で抜き出して書きなさい。
② ノート2の下線部 h について、日本国憲法の公布後、施行された法律の条文の内容として適切なものを、資料4の2つの憲法が規定する国民の権利が認められる条件の違いに着目し、次のア～エから2つ選び、記号を書きなさい。

- ア 労働条件は、労働者が人たるに値する生活を営むための必要をみたすべきものでなければならない。
- イ 政府は、戦争時に国家総動員上必要なときは、天皇の命令によって新聞紙その他の出版物の掲載について制限または禁止をすることができる。
- ウ 次の者は政治上の結社に加入することができない。一 軍人 二 警察官 … 五 女子 …
- エ すべて国民は、ひとしく、その能力に応ずる教育を受ける機会を与えられなければならない…

- ③ ノート2のえには、日本国憲法の三大原則のうちの1つが入る。えに当てはまる最も適切な語句を、漢字4字で書きなさい。

【問 2】 各問いに答えなさい。

I 長野県Z市に住む夏さんは、学校帰りに、おもりにんごを選別する選果所で、レモンを選別しているようすを見かけた。「なぜ長野県でレモンの選別をしているのか」と疑問をもち、レモンについて調べた。

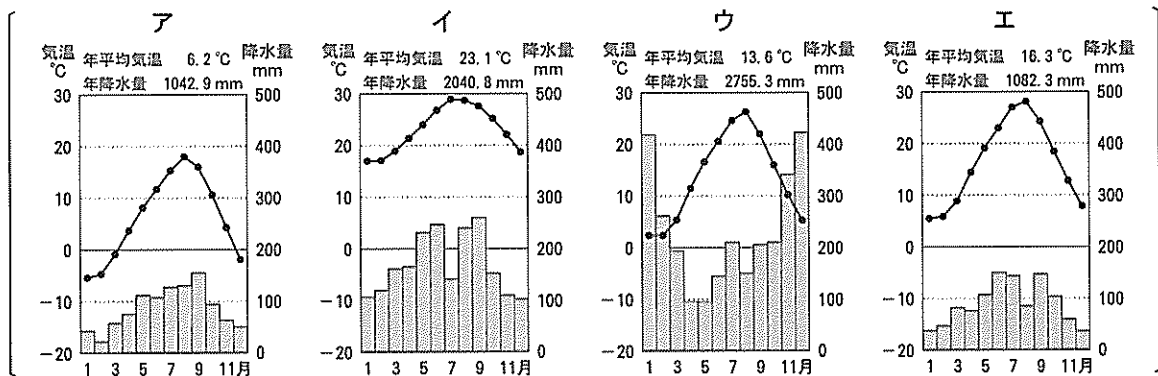
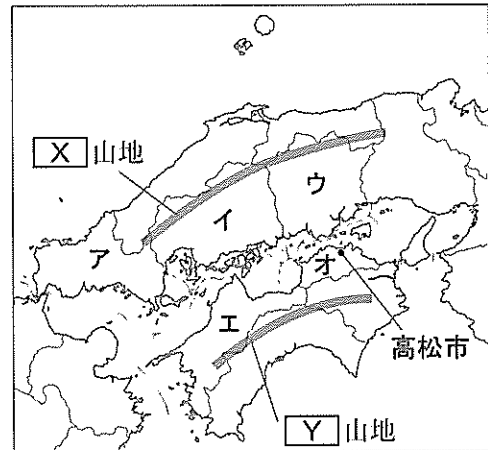
資料 1 レモンの収穫量の都道府県別割合(2016年)

広島	愛媛	その他
61.7%	20.8	17.5

(農林水産省特産果樹生産動態等調査より作成)

- (1) 資料 1 の広島県と愛媛県の位置を、地図 1 のア～オから 1 つずつ選び、記号を書きなさい。
- (2) 地図 1 の 2 つの山地にはさまれた瀬戸内とよばれる地域では、降水量が少なく温暖な気候を生かし、レモンやみかんなどのかんきつ類が栽培されている。[X]、[Y]に当てはまる山地名をそれぞれ書きなさい。また、地図 1 の高松市の気温と降水量を示す雨温図として最も適切なものを、次のア～エから 1 つ選び、記号を書きなさい。

地図 1



(気象庁資料より作成)

- (3) 夏さんは、選果所でレモンについて取材したことを、資料 2 を使い、ノート 1 にまとめた。

資料 2 広島県のレモンの出荷時期(おもに出荷している月に着色してある)

種類 \ 月	1	2	3	4	5	6	7	8	9	10	11	12
露地栽培												
貯蔵												
ハウス栽培												

(広島県農林水産局農業経営発展課資料等より作成)

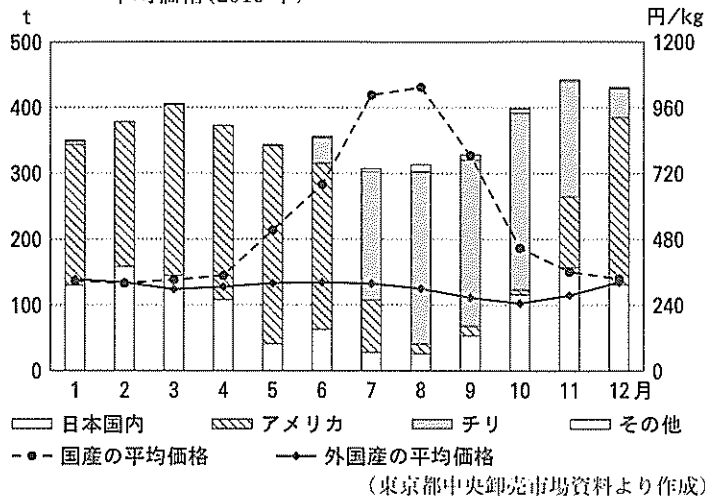
ノート 1

- 冬から春先に広島県で収穫された露地栽培のレモンの一部は、収穫後、長野県Z市の冷蔵施設に運ばれ、貯蔵される。
- この冷蔵施設には、約 100 t のレモンが貯蔵されている。冷蔵施設が使える理由は、りんごの貯蔵が終わり空になっている時期だからである。
- 冷蔵施設に貯蔵されているレモンは、出荷時期が近づくと冷蔵施設に隣接する選果所で選別され、関東や関西、中京方面などに出荷されていく。
- 広島県は、露地栽培だけでなく、冷蔵施設での貯蔵、ハウス栽培を行うことで、[あ]できるように工夫している。

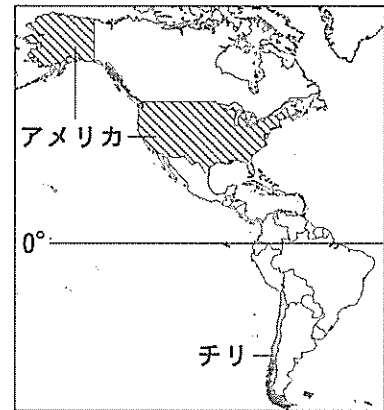
- ① ノート 1 の [あ] に当てはまる言葉を、資料 2 をもとに、出荷という語を使って、5 字以上 10 字以内で書きなさい。

- ② ノート1のように、長野県の冷蔵施設を使用して出荷すると、広島県から直接出荷する以上に輸送費や施設使用代などの費用がかかる。その費用を支払ってでも6月から8月に出荷する理由の1つとして考えられることを、資料3から価格に着目して読み取り、簡潔に書きなさい。

資料3 東京都中央卸売市場におけるレモンの産地別取扱数量と平均価格(2016年)



地図2



- (4) 資料3にかかわって、アメリカとチリの取扱数量が多い時期がそれぞれ異なる理由の1つとして考えられることを、地図2の両国の位置関係にふれて、簡潔に書きなさい。
- (5) 夏さんは、広島県がレモンの栽培に力を入れている理由について、広島県の担当者に取材したり、調べたりした内容をノート2にまとめた。

ノート2

- 国産のレモンは、防かび剤を使用しないので、安全・安心であるとされ、生果として人気が高い。また、果汁を使ったお菓子や調味料なども数多く販売され、今後も企業や消費者の買おうとする量が増えていくことが見込まれる。
- 広島県は、就農者の減少や耕作放棄地の増加などによる栽培面積や生産量の減少に悩む果樹産地を活性化しようとしている。その取り組みの1つとして、果樹については、みかん中心の栽培からレモン中心に重点を移し、それら以外のかんきつ類の栽培も含めた経営をすすめている。

- ① ノート2の下線部aと同じ意味を示す量を何というか、最も適切なものを、次のア～エから1つ選び、記号を書きなさい。

[ア 供給量 イ 流通量 ウ 需要量 エ 出荷量]

- ② ノート2の下線部bのようにすることがすすめられている理由の1つとして考えられることを、資料4、5からそれぞれ読み取れることにふれて、簡潔に書きなさい。

資料4 東京都中央卸売市場における広島県産のかんきつ類の品目別平均価格(2016年)

品目名	平均価格(円/kg)
みかん	223
レモン	439
はっさく	200
不知火(デコボン)	344

(東京都中央卸売市場資料より作成)

資料5 かんきつ類の品目別10a^{1/4}当たりの生産量及び労働時間のめやす(広島県)

品目名	10a当たりの生産量(kg)	10a当たりの労働時間(時間)
みかん	3200	199
レモン	3200	123
はっさく	3200	136
不知火(デコボン)	2400	202

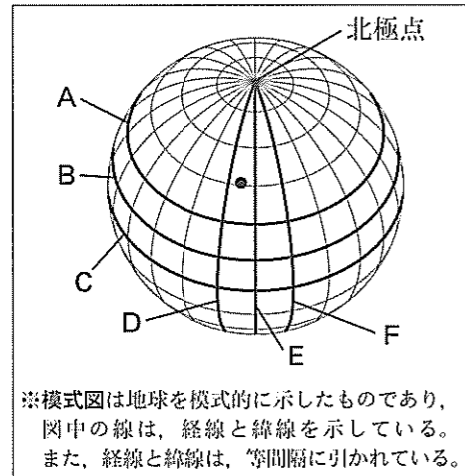
※栽培にかかわる土地条件、消毒に使う機械などは、いずれの品目についても同様とする。

(広島県「広島県果樹農業振興計画」(2016年)等より作成)

II 夏さんは、スイスに旅行に行ってきた姉から、スイスのフランス国境近くにあるモントルーという町の地形図をおみやげにもらった。

地形図（縮尺 25000 分の 1 の地形図を見やすいように拡大してある） 模式図

著作権の関係から掲載できません。






(Office fédéral de topographie swisstopo “MONTREUX 2012” より作成)

- (1) 世界の 6 つの州のうち、スイスやフランスが属する州の名称を書きなさい。
- (2) 夏さんは、地形図に示されていたモントルーの経度と緯度をもとに、モントルーの地球上の位置について調べた。模式図におけるモントルーのおよその位置(東経 7 度、北緯 46 度)を ● としたとき、本初子午線と赤道はそれぞれどれになるか。最も適切なものを、模式図の A～F から 1 つずつ選び、記号を書きなさい。
- (3) 夏さんは、地形図について、次のように姉と会話をした。


会話文



夏：日本の地形図と違うのかな。

姉：等高線が引いてあることは、日本の地形図と同じだよ。(地形図の  や  の地図記号の部分)を指して)住宅などの建物や道路の表し方も、日本の地形図と似ているね。


夏：(地形図の  で囲まれた部分を指して)等高線は、湖の中にも引いてあるんだね。

姉：この線から、湖の深さがわかるね。でも、この部分が海ではなくて湖だとよくわかったね。


夏：スイスは、 だから、この部分は海ではないと思ったんだ。

姉：そうだね。では、日本の地形図にはない、この地図記号(地形図の  で囲まれた 3 か所の )は、何を示しているかな。ヒントは、人々の生活とかかわりの深い施設だよ。

夏：なんだろう、「教会」かな。予想が正しいかどうか、インターネットを使って確かめてみよう。

- ① 会話文の  に当てはまる最も適切な語句を、次のア～エから 1 つ選び、記号を書きなさい。

[ア 内陸国 イ 共和国 ウ 島国 エ 主権国家]

- ② 夏さんは、地形図をインターネット上の地図などと比較して、 が教会であることを確かめた。写真は、そのときの画像の一部であり、地形図のア～ウのいずれかの教会を写したものである。なお、ア～ウの各教会に向けられている矢印は、その教会を写した向きを示している。

写真

著作権の関係から掲載できません。

(MyMONTREUX.CH ウェブサイトより)

- i 写真は、どの教会を写したのか。最も適切なものを、地形図のア～ウから 1 つ選び、記号を書きなさい。また、そのように判断した理由を、写真から読み取れることと、地形図から読み取れることをかかわらせ、等高線という語を使って説明しなさい。
- ii 写真の教会は、16 世紀前半に完成したものである。この頃に起こった次のできごとが、古い順になるように、次のア～ウを左から並べて、記号を書きなさい。

[ア イエズ会が設立された。 イ ルターが宗教改革を始めた。]
 [ウ フランシスコ＝ザビエルが、日本で布教を始めた。]

【問 3】 各問いに答えなさい。

I 令さんは、祖父の家を訪れ、次のように祖父と会話をした。

会話文 1

令：この前、学校の職場体験でデイサービスセンターに行き、利用者と仕事や趣味の話をしたよ。おじいちゃんはどこで働いていたのかな。

祖父：工場で働いていたよ。働き始めた頃は、日本は a 高度経済成長の時期だったんだ。当時は終身雇用の会社が増えてきていてね、仲間と一緒に退職まで同じ会社で働いていたんだよ。

令：一緒に働いた人たちとは、今でも会っているのかな。

祖父：村に何人も住んでいるから時々会うよ。うちの村も子供や若者が少なくなり、b 高齢者が多くなったけれど、これからもみんなと健康に過ごしたいな。

令：私もおじいちゃんに健康でいてほしいな。



(1) 令さんは、会話文 1 の下線部 a にかかわって考えた。

① この時期の日本のようすについて述べた文として、最も適切なものを、経済面については次のア～エから、生活・文化面については下のオ～クから 1 つずつ選び、記号を書きなさい。

【経済面】

- ア 国民総生産が中国に次いで世界第 2 位となった。
- イ 重化学工業から農業へ産業の中心が移った。
- ウ 政府が所得倍増のスローガンをかけ、経済成長を促進した。
- エ おもなエネルギー源が石油から石炭に変わった。

【生活・文化面】

- オ ラジオ放送が始まり、家庭などの情報源となった。
- カ 東京の新橋と横浜間に鉄道が開通し、主要な港と都市が結ばれるようになった。
- キ 電気洗濯機、電気冷蔵庫、テレビなどの家庭電化製品が普及した。
- ク 短編小説などを書いた芥川龍之介が活躍した。

② この時期に発生した公害の問題などがきっかけとなり主張されるようになった、きれいな空気や水、日当たりなどを求める新しい権利を何というか、書きなさい。

(2) 会話文 1 の下線部 b にかかわって、令さんは、資料 1、2 などを使い、考えたことをノート 1 にまとめた。

ノート 1 資料 1 から、東京圏、大阪圏、あ 圏の三大都市圏には、高齢化率 30% 未満の都府県が多い。しかし、資料 2 から、高齢者の増加は三大都市圏に含まれる都市にも大きくかかわることがわかる。日本の総人口が減少していくと予想される中、三大都市圏の都府県も含めて今以上に高齢化率が高くなることが考えられる。このような中、国や県ではどのような取り組みがあるか知りたい。

資料 1 *高齢化率 30% 以上の都道府県(2018 年)

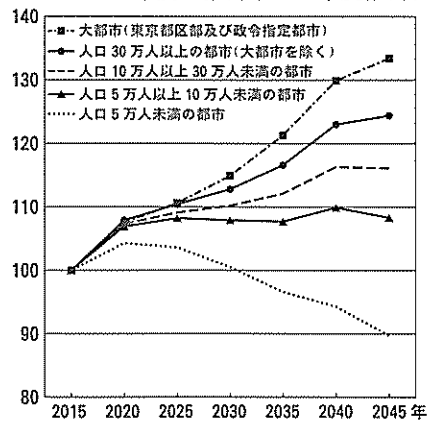


※ 30% 以上の都道府県に着色してある。

* 高齢化率：各都道府県の総人口に占める 65 歳以上人口の割合

(総務省統計局資料より作成)

資料 2 都市規模別に見た 65 歳以上人口の今後の推計(2018 年度推計)



※ 各都市規模ごとの 2015 年の 65 歳以上人口を 100 とし、各年の 65 歳以上人口を指数として示した。

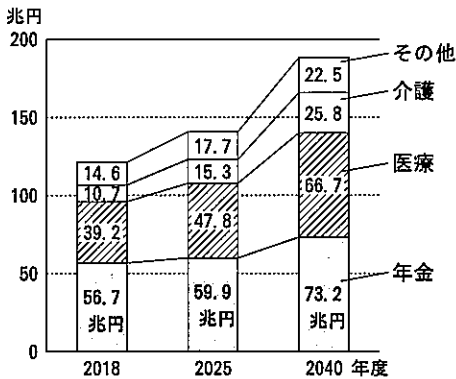
(国立社会保障・人口問題研究所資料より作成)

① ノート 1 の あ に当てはまる適切な都市名を書きなさい。

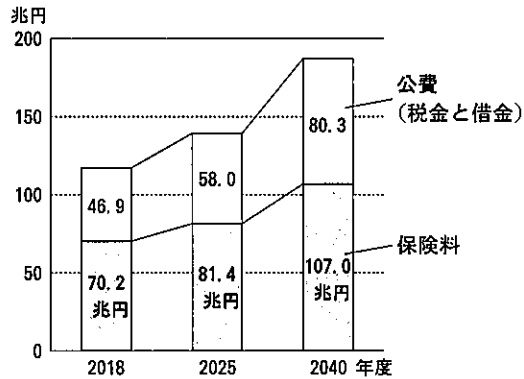
② ノート 1 の下線部 c のように考えた理由を、資料 2 から読み取れることをもとに、都市規模という語を使って、簡潔に書きなさい。

II 令さんは、国の社会保障制度や長野県の健康づくりへの取り組みについて調べた。

資料3 社会保障給付費の見通し(給付額)




資料4 社会保障給付費の見通し(負担額)



※資料3, 4は2018年度の予算をもとにした推計値である。(資料3, 4は内閣官房・内閣府・財務省・厚生労働省資料等より作成)

資料5 信州ACE(エース)プロジェクトの概要

<p>2014年：プロジェクト開始</p> <ul style="list-style-type: none"> 長野県の先人が積み重ねてきた努力や、県民の高い意識を活かし、世界一の健康長寿県を目指す 県民総ぐるみで取り組みを展開 	<p>A (Action)・・・毎日続ける速歩と体操 C (Check)・・・家族そろって必ず健診 E (Eat)・・・減らそう塩分, 増やそう野菜の3つにかかわる活動を提案, 紹介している</p> 
---	---

(長野県健康福祉部健康増進課資料等より作成)

(1) 資料3, 4にかかわって調べた。

- ① 国の社会保障制度は、日本国憲法第25条に定められた「健康で文化的な最低限度の生活を営む権利」にもとづいている。社会権の中に含まれるこの権利を何というか、書きなさい。
- ② 資料3の年金には年金保険, 医療には医療保険, 介護には介護保険がそれぞれ含まれる。年金保険, 医療保険, 介護保険は、日本の社会保障制度の4つの柱のうちどれに当たるか、最も適切なものを、次のア～エから1つ選び、記号を書きなさい。
[ア 公的扶助 イ 社会保険 ウ 公衆衛生 エ 社会福祉]
- ③ 資料3, 4について述べた文として適切なものを、次のア～エからすべて選び、記号を書きなさい。
[ア 2040年度の社会保障給付費における介護の給付額は、2018年度と比べて2倍以上になる。
イ 社会保障給付費の給付額の各項目を見ると、いずれの年度も、年金の給付額が最も多い。
ウ 2040年度の社会保障給付費における保険料の負担額は、2018年度と比べて2倍以上になる。
エ 社会保障給付費の負担額の各項目を見ると、いずれの年度も、公費より保険料の負担額が多い。]

(2) 資料5の下線部dにかかわって、令さんは、「なぜ長野県が県民総ぐるみで信州ACEプロジェクトを展開しようとしているのか」と疑問をもち、資料6を使い、考えたことをノート2にまとめた。

ノート2 平均寿命が い 年に男女ともに全国1位となった長野県は、世界一の健康長寿県を目指し、信州ACEプロジェクトを展開している。県民の生活スタイルに合わせた様々なA, C, Eの具体的な活動を提案し、高齢者だけでなく、県民総ぐるみで取り組めるように工夫している。
私も含め、県民みんながこの活動に取り組むことは、病気の予防につながると思う。また、社会保障制度ともかかわってくるかもしれないと考えた。

資料6 平均寿命が高い都道府県

	男性			女性		
	1位	2位	3位	1位	2位	3位
2005年	長野	滋賀	神奈川	沖縄	島根	熊本
2010年	長野	滋賀	福井	長野	島根	沖縄
2015年	滋賀	長野	京都	長野	岡山	島根

(厚生労働省資料より作成)


- ① ノート2の い に当てはまる最も適切な数字を、資料6をもとに書きなさい。
- ② 令さんは、資料3をもとにノート2の下線部eのように考えた。その際に着目したのは、2040年度と2018年度の給付額を項目ごとに比べたときに、最も差が大きい項目である。その項目として最も適切なものを、次のア～ウから1つ選び、記号を書きなさい。
[ア 年金 イ 医療 ウ 介護]

Ⅲ 令さんは、高齢化社会と地域の将来像について、次のように友人と会話をした。

会話文 2

令：私の祖父は、地域の子供たちに、ボランティアで百人一首を教えているよ。
 勝：地域で積極的に活動しているんだね。f 世界保健機関も、より長い間健康に過ごすために大切なことの1つとして、社会への参加をあげているよ。
 花：全国の60歳以上の6000人を対象に調査した資料7の結果を見ると、自主的な活動に参加したことがある人は、ない人と比べて、うが高いことがわかるね。
 勝：それに、資料8からは、高齢者の社会への参加が、地域の活性化につながっていることがわかるよ。高齢者本人だけでなく、地域のためになっているんだね。
 花：高齢者を中心とした活動が地域に広がり、みんなで取り組むようになったところがいいね。
 令：少子高齢化が一層進む中、g 私たち中学生を含めた地域住民が、豊富な知識や経験、技能をもっている高齢者と力を合わせて、よりよい地域をつくっていくことが大切になるんだね。

資料7 *自主的な活動への参加と生きがいの感じ方の関係



*自主的な活動：この調査では、個人やグループなどで行う、就業やボランティア活動、趣味、スポーツ、地域行事などを指す。
 ※四捨五入の関係で合計値が合わない場合がある。
 (内閣府「高齢者の日常生活に関する意識調査」(2014年)より作成)

資料8 徳島県神山町の事例

1995年、徳島県神山町に住む3人の高齢者が、町内に桜の木を植え始めた。町は過疎化や高齢化が進んでおり、農地や山林も荒廃していた。町に活気を戻したい。そんな願いだった。活動に賛同する仲間は徐々に増え、2002年に、「神山さくら会」を結成。管理は難しいが見ばえのする「しだれ桜」の苗木を中心に育て、道路や公園、公共施設などに植えてきた。2007年には、社会貢献を目的に非営利で活動するえ法人の認証を受けた。

この活動は、地域住民の、「自分たちの地域は自分で守ろう」という意識につながり、草刈りなどの作業に協力する人が年々増加。これまでに植えた桜は5000本を超えた。現在、神山町は、「しだれ桜の町」として、県内外から多くの観光客が訪れる町となっている。



(一般財団法人地方自治研究機構資料等より作成)

- 会話文2の下線部fは、ある国際組織に設置されている専門機関である。世界の安全と平和の維持を目的とし、2019年3月現在で世界の193か国が加盟している、この国際組織を何とよいか、漢字で書きなさい。
- 会話文2のうに当てはまる適切な言葉を書きなさい。
- 資料8のえに当てはまる最も適切な語を、次のア～エから1つ選び、記号を書きなさい。

ア	CSR	イ	TPP
ウ	PKO	エ	NPO
- 会話文2の下線部gにかかわって、あなたの住むまち(地域)では、どのような活動が考えられるか。あなたの考えを、次の手順1～3に従って書きなさい。なお、数字の場合は、1字1マス使うこと。
 手順1：あなたの目指すまちづくりの方向を、次のア、イから1つ選び、記号を書きなさい。
 [ア 安心・安全に暮らせるまち イ 伝統や魅力を生かしたまち]
 手順2：手順1で選んだまちを目指していくうえで、あなたの住むまちで課題となることを、30字以上40字以内で書きなさい。
 手順3：手順2で書いた課題の解決策となる、中学生と高齢者が力を合わせて行う活動を考え、60字以上70字以内で書きなさい。ただし、中学生と高齢者が、どのようにその活動にかかわるのがわかるように書くこと。

これより先に問題はありません。

下書きなどが必要なときに、自由に使いなさい。