

検査Ⅱ 地理歴史・公民 【共通問題】

(解答上の注意)

- (1) 解答は、全て解答用紙に記入すること。  
 (2) 【共通問題】の  ～  は、全員が解答すること。  
 (3) 【選択問題】は、各自が3問選び解答すること。

1

I Aさんのクラスでは、歴史総合の授業で「モノが動かす歴史」をテーマに学習を進め、発表に向けて準備をしている。綿織物を取り上げることにしたAさんは、その歴史について調べたことをノートにまとめた。下記の問いに答えなさい。

ノート

- 紀元前より、インドで綿織物生産が行われる。
- ①17～18世紀、オランダやイギリスの東インド会社がインド産の綿織物をヨーロッパ諸国にもたらす。キャリコと呼ばれたインド産綿織物は、ヨーロッパ諸国で大変なブームとなる。
- 同時期、インド産の綿織物は、②アメリカ大陸や西インド諸島にも、砂糖プランテーションで働く奴隷の衣服用として運ばれる。
- ③同時期、オランダ人や中国人が、日本にインド産の綿織物を輸出し、江戸では唐棧、上方では奥嶋と総称された。
- 17～18世紀、インド産の綿織物は、世界各地に大量に運ばれたと考えられる。
- 18世紀後半から、④イギリスでは、機械による綿織物の大量生産が始まる。
- 同時期、⑤イギリスによるインドの植民地化が進行。
- ⑥19世紀前半、アメリカ合衆国南部では、奴隷制プランテーションによる綿花の生産が盛んになる。
- 19世紀末、日本で大阪紡績会社が設立される。

問1 下線部①に関連して、17～18世紀のヨーロッパ社会における消費生活の変化について、「アジアの物産」「市民」「上流階級」の3語を用いて説明しなさい。

問2 下線部②に関連して、19世紀前半、スペインやフランスなどの植民地であったラテンアメリカ地域では、宗主国への独立運動が起きた。独立運動の指導者の名前(X・Y)と、その人物がおこなったこと(a・b)の組合せとして最も適当なものを下のア～エから1つ選び、記号で答えなさい。

X メッテルニヒ

Y トゥサン＝ルヴェルチュール

a ベネズエラやコロンビアの独立運動を指導した。

検査Ⅱ                      地理歴史・公民                      【共通問題】

b フランス領ハイチ（サン＝ドマング）で黒人奴隷を率いて蜂起した。

ア X-a    イ X-b    ウ Y-a    エ Y-b

問3 下線部③に関連して、17～18世紀の日本の貿易について述べた次の文X・Yの正誤の組合せとして最も適当なものを、下のア～エから1つ選び、記号で答えなさい。

X 中国・オランダとの貿易は、幕府の管理する長崎に限定し、朝鮮との貿易を薩摩藩が、琉球との貿易を対馬藩が、アイヌとの貿易を松前藩がそれぞれおこなった。

Y 輸入品は、生糸や絹織物、陶磁器、医薬品などで、輸出品は銀や銅、俵物（海産物）などであった。

ア X-正 Y-正                      イ X-正 Y-誤

ウ X-誤 Y-正                      エ X-誤 Y-誤

問4 下線部④に関連して、Aさんは、綿工業の技術革新について次の表とメモにまとめた。表を参考にして、メモの  ～  に入る語句の組合せとして最も適当なものを下のア～カから1つ選び、記号で答えなさい。

表

発明年	発明者	発明したもの
1733年頃	ジョン・ケイ	飛び杼
1764年頃	ハーグリーブズ	ジェニー紡績機
1769年	アークライト	水力紡績機
1779年	クロンプトン	ミュール紡績機

メモ ジョン・ケイが飛び杼を発明したことにより  の速度が高まり、 が不足することになったが、ハーグリーブズらによる紡績機の発明により、 の生産量が増えることとなった。1785年、 が力織機を発明すると、 の技術も一層向上し、綿織物の機械生産はより発展することになった。

ア X-紡績    Y-綿布    Z-カートライト

イ X-織布    Y-綿糸    Z-カートライト

ウ X-紡績    Y-綿糸    Z-カートライト

エ X-織布    Y-綿布    Z-ダービー

オ X-紡績    Y-綿布    Z-ダービー

カ X-織布    Y-綿糸    Z-ダービー

問5 下線部⑤に関連して、ヨーロッパ諸国によるアジア地域の植民地化と、それに対する抵抗運動について述べた文として適当でないものを次のア～エから1つ選び、記号で答えなさい。

ア イギリスは、タイと3回にわたって戦い、最終的に勝利して、植民地とした。

イ インドでは、インド人傭兵（シパーヒー）による反乱をきっかけに様々な階層の人々が

検査Ⅱ 地理歴史・公民 【共通問題】

加わり、北インド全域に大反乱が発生したが、イギリスに鎮圧された。

ウ フランスは、ベトナムとカンボジアをあわせてフランス領インドシナ連邦を形成した。

エ フィリピンでは、アギナルドらの指導下にスペインからの独立をめざすフィリピン革命が始まった。

問6 下線部⑥に関連して、19世紀のアメリカ合衆国の状況について述べた次のア～エを古い順に左から並べ替え、記号で答えなさい。

ア リンカンが奴隷解放宣言を発した。

イ シカゴーサンフランシスコ間に最初の大陸横断鉄道が開通した。

ウ 奴隷制の拡大に反対するリンカンが大統領に選出されると、南部諸州はアメリカ合衆国から脱退し、アメリカ連合国を結成した。

エ 南北アメリカとヨーロッパの相互不干渉を主張するモンロー宣言が発せられた。

問7 綿織物の歴史について調べ、発表をしたAさんは、振り返りを行い、次のようにまとめた。

次の**まとめ**の  ～  に入る最も適切な語句を、ノートにある語句を用いて答えなさい。

**まとめ** 17世紀以降、インド産の綿織物はイギリスやオランダの  によって輸入されるようになり、キャリコと呼ばれて、ヨーロッパ各国で大変なブームとなった。インド産の綿織物は、  で働く奴隷の衣服用として、アメリカ大陸や西インド諸島にも運ばれた。日本へは長崎を通じて、オランダ人や中国人によってもたらされた。18世紀後半から、イギリスでは、機械による綿織物の大量生産が始まり、世界各地に輸出することになった。19世紀前半、アメリカ合衆国南部では、奴隷制プランテーションによる  の生産が盛んになり、イギリスへ輸出した。19世紀末、日本では、大阪紡績会社が設立されるなど、大規模な紡績工場の設立と機械化が進み、綿糸の輸出国となった。

Ⅱ Bさんのグループでは、歴史総合の授業のまとめとして、エネルギーと環境問題について調べ、発表することになり、グループで話し合いをしている。

Bさん：19世紀後半からの第2次産業革命では、電気や石油が重要なエネルギーになってきたね。蒸気機関に代わって、内燃機関が実現し、エディソンが建設した火力発電所などによって、電気の本格利用が進んだね。

Cさん：そうだね。石油を精製したガソリンを使った自動車が発明されたのは、1886年のことだね。20世紀に入ると、T型フォードの大量生産も始まって来るね。

Dさん：電気はだんだんとエネルギーの中心になって来るね。水力発電や石炭による火力発電に

検査Ⅱ 地理歴史・公民 【共通問題】

よって供給されていたんだよ。⑦世界恐慌のとき、アメリカでおこなわれたニューディールと呼ばれる経済政策では、テネシー川流域開発公社（TVA）によって大規模な水力発電所が建設されたって知ってる？

Bさん：知ってるよ。けれど、⑧1950年代に中東やアフリカで大規模な油田が発見されると、石炭から石油へエネルギーの主役が交代するんだよ。当初は、欧米の国際石油資本が石油の採掘・精製・販売をおこなっていたけれど、産油国の批判を招き、産油国自らによる管理を求める声が高まっていったんだよ。

Cさん：1960年に産油国は⑨を結成して、国際石油資本に対抗していくんだよね。

Bさん：そうだね。世界にアラブの産油国の力を示したのは、1973年に起きた第4次中東戦争のときだね。アラブの産油国が石油戦略を打ち出したことで、原油価格が高騰し、世界経済は未曾有の混乱に陥ったんだよ。先進国では石油に依存するエネルギー全般のあり方を問い直す動きが強まっていったね。

Dさん：石油の代替エネルギーとして、新たに注目を集めるようになったのが、天然ガスや原子力だね。

Cさん：⑩日本では、1966年に初めて原子力発電所が操業を開始したね。石油の代替エネルギーとして注目された原子力だけでも、1979年のスリーマイル島原子力発電所事故、1986年のチェルノブイリ原子力発電所事故、2011年の東日本大震災の際の福島第一原子力発電所の事故のことを考えると、原子力発電の安全性の問題についても考えていくことが大事だね。

Dさん：ところで、⑪石油や石炭などの化石燃料の利用が二酸化炭素の排出量を増やし、地球温暖化の原因になっているのではないかという懸念も強まってきているね。

Bさん：そうだね。大量生産・大量消費・大量廃棄という経済活動のあり方を改め、気候変動に対処するとともに、省エネルギーを推進するべきとの声も強くなってきているね。

Cさん：うん。自然の力を利用した再生可能エネルギーの利用を進める動きも強くなっているね。

Dさん：再生可能エネルギーというと、太陽光や風力、地熱などが挙げられるね。

Bさん：2015年に国連で採択された「持続可能な開発目標（SDGs）」の第7の目標として、「エネルギーをみんなに、そしてクリーンに」が掲げられているね。エネルギーの未来、そしてぼくたち人類の未来についても考えていきたいね。

問8 下線部⑦に関連して、次の【資料1】はニューディールを推進した当時のアメリカ合衆国大統領の就任演説である。この大統領の名前（X・Y）とニューディールの基本的な考え方（a・b）の組合せとして最も適当なものを下のア～エから1つ選び、記号で答えなさい。

## 【資料1】大統領就任演説

(歴史学研究会 編『世界史史料 10 20世紀の世界Ⅰ』)

X フランクリン＝ローズヴェルト

Y トルーマン

a 市場における企業間の競争が経済活動を活発化させるので、政府は介入しない。

b 政府が積極的に経済活動に介入することで、経済を立て直すことをめざす。

ア X-a イ X-b ウ Y-a エ Y-b

問9 下線部⑧に関連して、1950年代に世界で起きた出来事について述べた文として最も適切なものを次のア～エから1つ選び、記号で答えなさい。

ア 西ドイツでは、ブランド政権が東ドイツやポーランドとの関係改善に努める東方外交をおこなった。

イ アメリカが北ベトナムへの空爆(北爆)を開始した。

ウ イギリスの前首相チャーチルが「鉄のカーテン」演説(フルトン演説)をおこない、ソ連主導による社会主義圏の形成を警告した。

エ ソ連共産党第20回大会で、フルシチョフ第一書記がスターリン批判をおこなった。

問10 空欄 ⑨ に当てはまる組織の名称を漢字で答えなさい。

問11 下線部⑩に関連して、第二次世界大戦後の日本について述べた文として適切なものを次のア～エからすべて選び、記号で答えなさい。

ア アメリカの貿易赤字と財政赤字が拡大するなか、1985年、為替レートの調整が先進国で合意されたことにより、円安が急激に進行した。

イ 1993年、非自民連立政権の細川護熙内閣が成立し、55年体制が崩壊した。

ウ 重化学工業の進展によって公害問題が深刻となるなか、1967年に公害対策基本法が制定され、1971年には環境庁が発足した。

エ 佐藤栄作内閣は、「所得倍増」を掲げて国民の生活改善を政策の中心にすえ、また、貿易の自由化をすすめた。

問12 下線部⑪に関連して、京都議定書における課題とその後の状況の変化について述べ、さら

検査Ⅱ 地理歴史・公民 【共通問題】

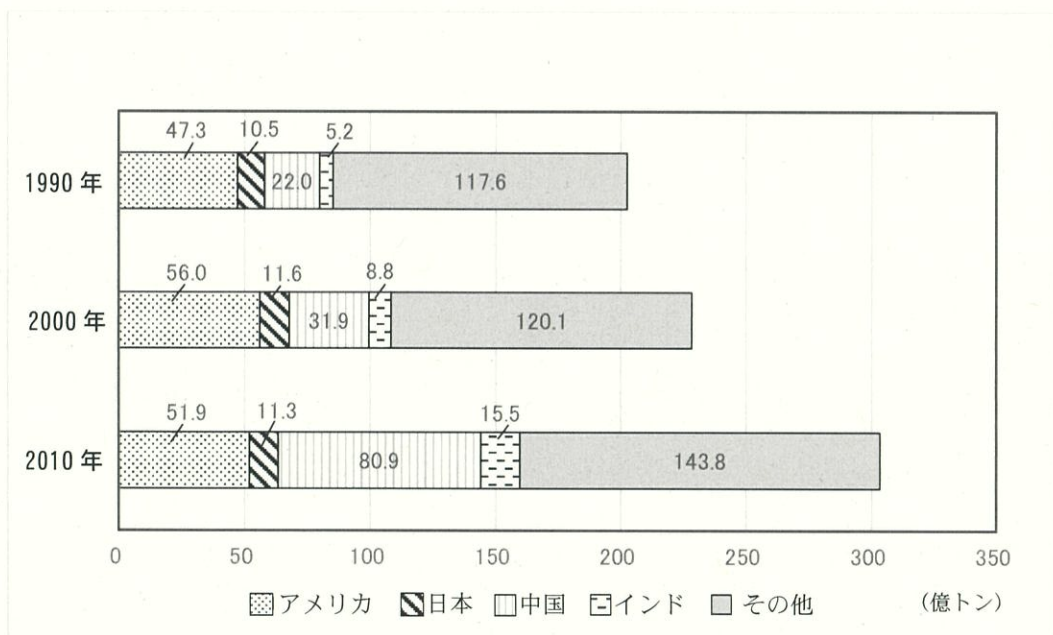
にそれらを反映して、パリ協定ではどのように変わったのか、【資料2】、【資料3】を参考にしながら、書きなさい。

【資料2】

	京都議定書（1997年採択）	パリ協定（2015年採択）
温室効果ガス排出量の削減目標	<ul style="list-style-type: none"> <li>先進国全体で2008～2012年の5年間に1990年比5%削減</li> <li>先進国に対して法的拘束力のある排出削減目標を義務付け（日本6%減、アメリカ7%減、EU8%減）</li> <li>中国、インド等の新興途上国は、排出削減義務を負わない。</li> </ul>	<ul style="list-style-type: none"> <li>すべての国に各国が決定する削減目標の作成・維持・国内対策を義務付け</li> <li>5年ごとに削減目標を提出・更新</li> </ul>

※2001年、当時世界最大の排出国であったアメリカが京都議定書への不参加を表明  
（環境省『平成28年版 環境白書・循環型社会白書・生物多様性白書』より作成）

【資料3】 世界の二酸化炭素排出量の推移



（日本エネルギー経済研究所「エネルギー・経済統計要覧2025」より作成）

問13 BさんとCさんは、グループで話し合ってきたことやこれまで学んできたことをもとにエネルギーの歴史をメモにまとめた。それぞれのメモの正誤について述べた文として最も適当なものを下のア～エから1つ選び、記号で答えなさい。

## 【Bさんのメモ】

第2次産業革命では、電気や石油が重要なエネルギーとして登場した。第二次世界大戦後、中東地域やアフリカで大規模な油田が発見されると、欧米の国際石油資本が採掘から販売に至るまで大きな利権を握るようになったが、産油国の反発を受けることになった。第4次中東戦争の際、アラブの産油国は、価格の引き上げとアメリカなどイスラエルを支持する国への原油供給制限をおこなった。

## 【Cさんのメモ】

20世紀は、イギリスで始まったT型フォードの大量生産に象徴されるように、大量生産・大量消費・大量廃棄が行われてきたが、化石燃料の利用が二酸化炭素の排出量を増やし、地球温暖化の原因になっているのではないかという懸念が強まってきている。これまでの経済活動のあり方を見直し、再生可能エネルギーの利用を進める動きが高まってきている。

ア Bさんのみ正しい

イ Cさんのみ正しい

ウ 2人とも正しい

エ 2人とも誤っている

2

I 世界を結ぶ様々な交通網や通信網について、下記の問いに答えなさい。

問1 次の文の空欄A～Dに当てはまる語句の組合せとして最も適当なものを下のア～エから1つ選び、記号で答えなさい。

は、地形や海洋の影響を受けることなく地球上の各地を最短距離で結ぶことができ、短時間で輸送できる反面、費用も高くなるため、貨物として輸送されるのは  などが中心となっている。

は、速度の面で他の交通機関に劣るものの、安く大量に運ぶことに適しているため、  などを輸送し、世界的な貿易の拡大を支えている。

ア A－海上交通 B－比較的軽くて単価の高い工業製品

C－航空交通 D－原油、鉱産資源や穀物

イ A－海上交通 B－原油、鉱産資源や穀物

C－航空交通 D－比較的軽くて単価の高い工業製品

## 検査Ⅱ

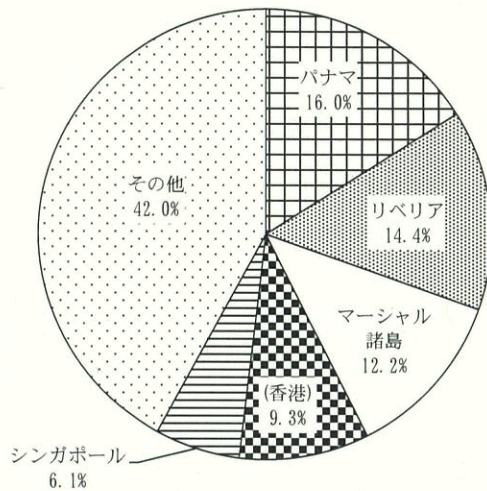
## 地理歴史・公民

## 【共通問題】

- ウ A－航空交通 B－比較的軽くて単価の高い工業製品  
 C－海上交通 D－原油、鉱産資源や穀物
- エ A－航空交通 B－原油、鉱産資源や穀物  
 C－海上交通 D－比較的軽くて単価の高い工業製品

問2 図1が示したものとして最も適当なものを下のア～エから1つ選び、記号で答えなさい。

図1 (2022年)



(二宮書店「地理統計要覧 2024 年度版」より作成)

- ア 世界の鉄道輸送量における国別割合                      イ 世界の航空輸送量における国別割合  
 ウ 世界の商船船舶保有量における登録国別割合                      エ 世界の道路延長における国別割合

問3 表1は、上海、シンガポール、香港、東京の港湾におけるコンテナ取扱量の推移を示したものである。表1中のA～Dのうち、上海、香港に該当する組合せとして最も適当なものを下のア～エから1つ選び、記号で答えなさい。

表1 おもな港湾のコンテナ取扱量の推移 (万\*TEU)

	1990年	2010年	2021年
A	46	2907	4703
B	156	429	433
C	510	2353	1780
D	522	2843	3747

※TEU：20フィートコンテナ換算

(二宮書店「地理統計要覧 2024 年度版」より作成)

- ア A－上海 C－香港                      イ A－上海 D－香港  
 ウ B－上海 C－香港                      エ B－上海 D－香港

問4 表2は、インド、韓国、中国、日本における百人当たりブロードバンド\*契約数と百人当たり固定電話契約数を示したものである。表2中のA～Dのうち、中国、日本に該当するもの

検査Ⅱ 地理歴史・公民 【共通問題】

として最も適当なものをそれぞれ1つ選び、記号で答えなさい。

\*光回線等によって、精密な大容量映像データや音楽データ等をスムーズにダウンロードできるインターネットのこと。

表2 百人当たりブロードバンド契約数と百人当たり固定電話契約数(2021年)

	百人当たり ブロードバンド契約数	百人当たり 固定電話契約数
A	44.3	44.8
B	37.6	12.7
C	35.0	49.4
D	2.0	1.7

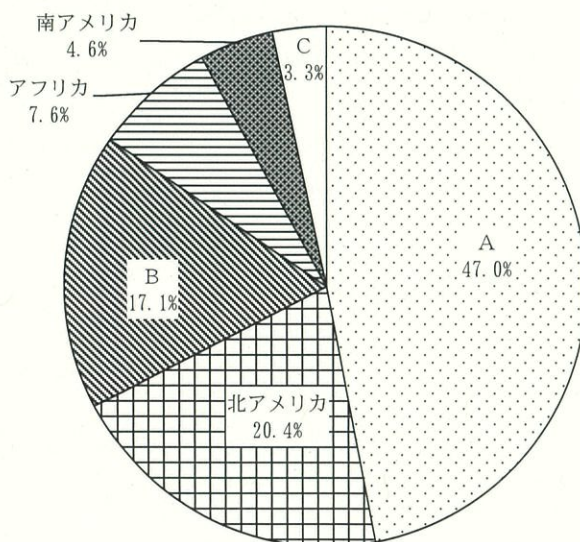
(二宮書店「地理統計要覧 2024 年度版」より作成)

問5 情報通信技術がもたらす恩恵や影響は、国や地域によって異なり、同じ国内でも富裕層と貧困層では得られる情報や利用できる技術が異なる。情報通信技術を利用できる人と利用できない人で、機会や収入などに差が生じることを何というか。カタカナ8字で答えなさい。

Ⅱ 資源・エネルギー問題について、下記の問いに答えなさい。

問6 図2は、世界の1次エネルギー生産量の割合を示したものであり、表3は、世界の1次エネルギーの区別生産量とその割合を示したものである。表3を参考に、図2中のA～Cのうち、アジア、オセアニア、ヨーロッパに該当する組合せとして最も適当なものを下のア～カから1つ選び、記号で答えなさい。

図2 世界の1次エネルギー生産量の割合(2020年)



(二宮書店「地理統計要覧 2024 年度版」より作成)

検査Ⅱ 地理歴史・公民 【共通問題】

表3 世界の1次エネルギーの区分別生産量とその割合(2020年)

	生産量(石油換算)(百万トン)	割合(%)
石炭	3827	27.0
石油	4234	29.8
天然ガス	3353	23.6
バイオ	1345	9.5
※電力	1430	10.1

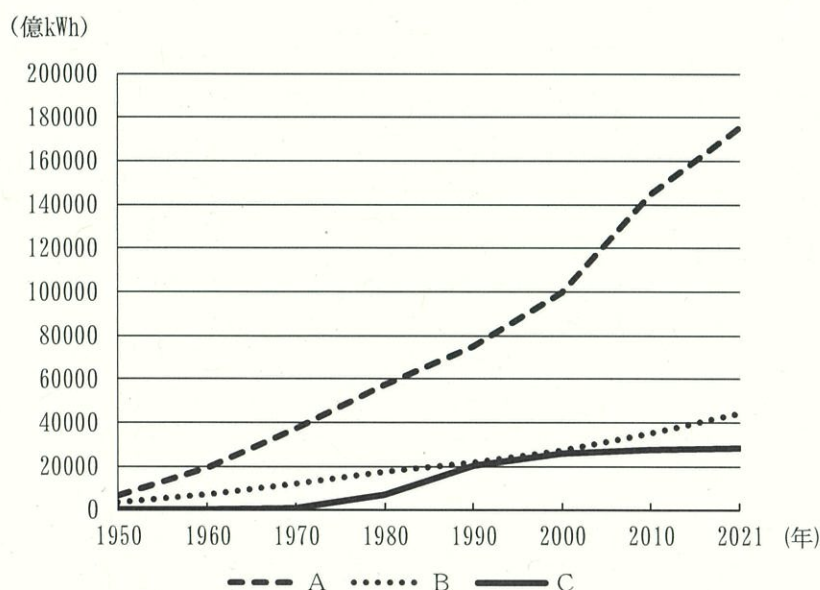
※電力：原子力・水力・地熱・太陽光・風力・その他のエネルギー

(二宮書店「地理統計要覧2024年度版」より作成)

- ア A-アジア B-オセアニア C-ヨーロッパ  
 イ A-アジア B-ヨーロッパ C-オセアニア  
 ウ A-オセアニア B-アジア C-ヨーロッパ  
 エ A-オセアニア B-ヨーロッパ C-アジア  
 オ A-ヨーロッパ B-アジア C-オセアニア  
 カ A-ヨーロッパ B-オセアニア C-アジア

問7 図3は、世界の発電量の推移を示したものである。図3中のA～Cと、火力、原子力、水力の組合せとして最も適当なものを下のア～カから1つ選び、記号で答えなさい。

図3 世界の発電量の推移



(二宮書店「地理統計要覧2024年度版」より作成)

- ア A-火力 B-原子力 C-水力    イ A-火力 B-水力 C-原子力  
 ウ A-原子力 B-火力 C-水力    エ A-原子力 B-水力 C-火力  
 オ A-水力 B-火力 C-原子力    カ A-水力 B-原子力 C-火力

## 検査Ⅱ 地理歴史・公民 【共通問題】

問8 都市鉱山とはどのようなものか、「レアメタル」の語を用いて説明しなさい。

問9 資源ナショナリズムについて述べた文として最も適当なものを次のア～エから1つ選び、記号で答えなさい。

ア 自国の資源を自国の経済的な自立や発展に結び付けようとする動きのこと。これまで資源埋蔵国で開発・管理してきたものを維持しようとするもの。


イ 自国の資源を自国の経済的な自立や発展に結び付けようとする動きのこと。他の先進国が開発・管理してきたものに対して、資源埋蔵国が主導権をもとうとするもの。

ウ 他国の資源を自国の経済的な自立や発展に結び付けようとする動きのこと。これまで自国で開発・管理してきたものを維持しようとするもの。

エ 他国の資源を自国の経済的な自立や発展に結び付けようとする動きのこと。他の先進国が開発・管理してきたものに対して、それを奪おうとするもの。


Ⅲ 次の資料1・2を読んで、下記の問いに答えなさい。

## 資料1



(気象庁資料より作成)

## 資料2



(国土交通省資料より作成)

問10 空欄  に当てはまる山地の名称を答えなさい。

検査Ⅱ 地理歴史・公民 【共通問題】

問 11 空欄 ② に当てはまる語を答えなさい。

問 12 下線部③に関連して、この3つの河川のうち、日本最大の流域面積をもつ河川はどれか、答えなさい。

問 13 地図は、吉野川上流にある早明浦ダムの位置を示したものである。早明浦ダムが、瀬戸内側と吉野川流域に対して果たしている役割として考えられることを、気候と関連付けてそれぞれ説明しなさい。

地図



3

次の文は、公共の授業で取り組む課題レポートについての、4人の生徒（W・X・Y・Z）の会話である。これを読んで、下記の問いに答えなさい。

W：公共の課題レポート、テーマどうしよう。①司法制度にしようか、②地方自治にしようか迷っているんだ。

X：私は国際情勢についてまとめようと思う。最近のウクライナ侵攻をはじめとした紛争の問題は、③防衛や④難民への対応など、日本にとっても喫緊の課題だと思うんだ。他にも、日本は食料自給率が低いとされているから、⑤食料の安定的な輸入についても興味があるし。

W：確かに、近年は⑥新興国の影響力も高まってきてるしね。おもしろいテーマかも。

Y：私は、経済政策について考えてみたいな。日本は「失われた30年」なんて言われて、長期的な⑦経済停滞の時代を過ごしてきたから、⑧経済成長を実現するにはどんな政策が有効かを探してみるつもり。でも、日本の場合は少子高齢化と⑨社会保障費の増大で、積極的な財政出動が難しい側面もあるんだよね。

Z：みんなは世の中のことについて扱うんだね。私は、自分の人生や、⑩生きる意味、何気ない⑪日常で抱える葛藤との向き合い方など、私個人の問題についてテーマにしようと思ったた

検査Ⅱ 地理歴史・公民 【共通問題】

から、私だけ浮いちゃうかな。

W：そんなことないと思うよ。現在は多様な⑫価値観の中で生きる時代で、⑬多様性があるからこそ生じる悩みもあるはずだからね。Zさんのテーマだって社会と関係しているんじゃないかな。みんなおもしろそうなテーマだね。私も頑張ってテーマを考えてみる。

問1 下線部①に関連して、刑事司法制度について述べた文として適当でないものを次のア～エから1つ選び、記号で答えなさい。

- ア 被告人は有罪が確定するまでは無罪と推定されなければならない。
- イ 被告人に不利な証拠が、被告人本人の自白だけであっても有罪にすることが可能である。
- ウ 実行時に適法であった行為について、後から定めた法によって罰することはできない。
- エ 判決が確定した事件について、同一の犯罪について重ねて刑事上の責任を問うことはできない。

問2 下線部②に関連して、日本国憲法第92条で規定される「地方自治の本旨」は、2つの理念から構成される。その2つの理念とは何か、答えなさい。

問3 下線部③に関連して、国際連合憲章に規定される「集団的自衛の固有の権利（集団的自衛権）」とは何か、個別的自衛権との違いを明示しつつ、簡潔に説明しなさい。

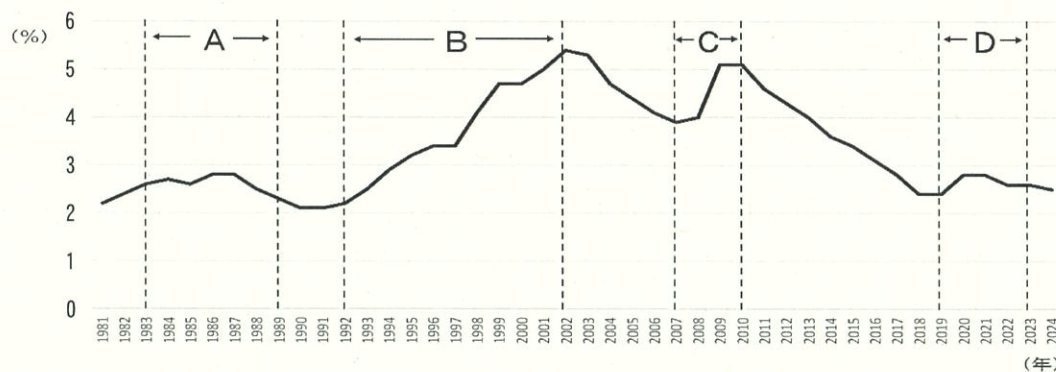
問4 下線部④に関連して、1950年に設立された、難民の保護や支援を行う国連機関の名称は何か、答えなさい。

問5 下線部⑤に関連して、日本は1993年に米の部分的な市場開放を受け入れた。この合意がなされた、GATTによる1986年から1994年の多角的貿易交渉を何というか、答えなさい。

問6 下線部⑥に関連して、BRICSや産油国など、近年国際社会での存在感を強めている国々がある。このうち、主に南半球に位置する新興国や発展途上国のグループを一般に何と呼ぶか、答えなさい。

問7 下線部⑦に関連して、【図1】は日本の完全失業率の推移を示したものである。【図1】中のA～Dの時期について述べた文として、適当でないものを次のア～エから1つ選び、記号で答えなさい。

【図1】



(総務省統計局「労働力調査結果」より作成)

検査Ⅱ 地理歴史・公民 【共通問題】

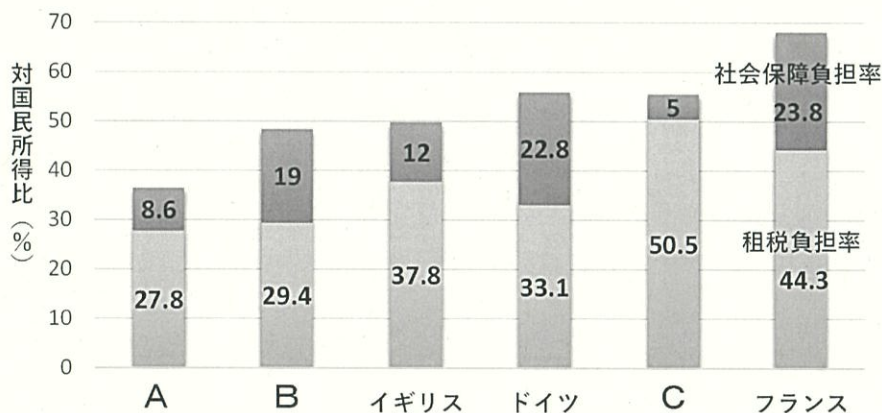
- ア Aの時期には、第一次石油危機によって戦後初めてのマイナス成長となった。  
 イ Bの時期には、バブル崩壊以降の「失われた10年」とも称される長期不況に陥った。  
 ウ Cの時期には、リーマンショックから広がった世界金融危機の影響で景気が落ち込んだ。  
 エ Dの時期には、新型コロナウイルスの感染拡大が経済成長率を引き下げた。

問8 下線部⑧に関連して、経済の状況や規模を示す指標について述べた文として、最も適当なものを次のア～エから1つ選び、記号で答えなさい。

- ア いわゆる家事労働のような、市場での取り引きが生じない無償労働は、GDPの計算には含まれない。  
 イ GDPとは、国内で1年間に新しく生み出された財・サービスの総量のことである。ただし、二重計算をさけるために固定資本減耗の総額を差し引いてある。  
 ウ 国民所得は、生産国民所得・分配国民所得・支出国民所得の3つの側面からとらえることができるが、異なる特徴に着目するため、それぞれの総額は互いに異なる。  
 エ ある特定の時点における経済規模を測る指標をフローと呼ぶ。一方、一定期間に生産された量の経済規模を測る指標をストックと呼ぶ。

問9 下線部⑨に関連して、【図2】は、社会保障国民負担率の国際比較について示したものである。【図2】中のA～Cに当てはまる国名の組合せとして、最も適当なものを次のア～カから1つ選び、記号で答えなさい。

【図2】



(2022年の実績値、財務省ホームページ資料より作成)

- |   |          |          |          |
|---|----------|----------|----------|
| ア | A－スウェーデン | B－日本     | C－アメリカ   |
| イ | A－スウェーデン | B－アメリカ   | C－日本     |
| ウ | A－日本     | B－アメリカ   | C－スウェーデン |
| エ | A－日本     | B－スウェーデン | C－アメリカ   |
| オ | A－アメリカ   | B－スウェーデン | C－日本     |
| カ | A－アメリカ   | B－日本     | C－スウェーデン |

## 検査Ⅱ 地理歴史・公民 【共通問題】

- 問 10 下線部⑩に関連して、「私がそのために生き、そして死にたいと思うような理念（イデオロギ）」を求めて「主体性が真理である」と主張したデンマークの実存主義思想家は誰か、答えなさい。
- 問 11 下線部⑪に関連して、日常生活における葛藤や欲求不満に対して、無意識に自己を守るしくみを、フロイトは防衛機制と呼んだ。【 合理化 同一視 昇華 】は、フロイトが示した防衛機制の類型の一部である。この3つの類型から1つ選び、内容について簡潔に説明しなさい。
- 問 12 下線部⑫に関連して、古代日本人の思想や価値観について述べた文として、適当でないものを次のア～エから1つ選び、記号で答えなさい。
- ア 不可思議な力を持ち、畏怖の念を起こさせる存在をカミ（神）と呼んだ。
- イ 日本のカミ（神）は豊かな恵みをもたらす存在である一方、疫病や天災をもたらすこともあるとされた。
- ウ 日本のカミ（神）は、<sup>やおよぶずのかみ</sup>八百万神とよばれる唯一絶対神であるとされた。
- エ カミ（神）や人に対して嘘偽りがなく、明朗で曇りのない心が尊重された。
- 問 13 下線部⑬に関連して、アメリカで人種差別の解消を訴えて公民権運動を指導し、1964年にノーベル平和賞を受賞した人物は誰か、答えなさい。

## 検査Ⅱ 地理歴史 【選択問題】

(解答上の注意)

- (1) 次の  ～  の中から3問を選択して答えなさい。  
(2) 解答は、全て解答用紙に記入すること。

次の文を読んで、下記の問いに答えなさい。なお、漢字で解答すべき問題は漢字で答えなさい。

(佐藤洋一郎『稲の日本史』 一部改)

問1 下線部①に関連して、次の問いに答えなさい。

- (1) 弥生時代を中心とした水田跡・水田関連施設が発見された板付遺跡がある都道府県名を答えなさい。  
(2) 律令国家の財源の一つである出挙という制度を簡潔に説明しなさい。

問2 下線部②に関連して、江戸時代に普及した干鰯や油粕などの購入肥料を表す語句を漢字2字で答えなさい。

問3 下線部③に関連して、17世紀末、宮崎安貞が著した農書名を答えなさい。

問4 下線部④に関連して、藩主について述べた次の文X・Yの正誤の組合せとして最も適当な

検査Ⅱ 地理歴史 【選択問題】

ものを、下のア～エから1つ選び、記号で答えなさい。

X 徳川家康の子である徳川光圀は、紀伊藩主として儒学を励行し、『大日本史』の編纂を開始した。

Y 薩摩藩主の島津斉彬は藩の近代化を進め、反射炉や造船所などを建設した。

ア X-正 Y-正 イ X-正 Y-誤

ウ X-誤 Y-正 エ X-誤 Y-誤

問5 下線部⑤に関連して、次の問いに答えなさい。

(1) 【資料1】は、743年に出された法令である。「養老七年の格」に該当する法令の名称を明らかにしながら、資料の内容について、「開墾」「私有地」の2語を用いて説明しなさい。

(2) 【資料2】は、1643年に出された法令である。この法令の名称を答えなさい。

【資料1】

(天平十五年五月) 乙丑、詔して曰く、「聞くならく、墾田は養老七年の格に依りて、限満つる後、例に依りて収授す。是に由りて農夫怠倦して、開ける地復た荒る、と。今より以後は、任に私財と為し、三世一身を論ずること無く、咸悉くに永年取る莫れ。(中略)」と。

(『続日本紀』)

【資料2】

一 身上能き百姓は田地を買取り、弥宜く成り、身軀成らざる者は田畠沽却せしめ、猶々身上成るべからざるの間、向後田畠売買停止為るべき事。

(『御触書寛保集成』)

問6 下線部⑥に関連して、下の問いに答えなさい。なお、【資料3】と【資料4】は、仏教の受容に関係する史料とされており、【資料3】が538年、【資料4】が552年に仏教が日本に伝わったとする内容である。

【資料3】

志癸嶋天皇の御世に、戊午の年の十月十二日に、百済国の主明王、始めて仏の像經教并せて僧等を度し奉る。勅して  稲目宿禰大臣に授けて興し隆えしむ。

(『上宮聖徳法王帝説』)

【資料4】

(欽明天皇十三年) 冬十月、百済の聖明王、…釈迦仏の金銅像一軀、幡蓋若干、經論若干巻を獻る。…(天皇) 乃ち群臣に歴問して曰く、「西蕃の獻れる仏の相貌端嚴し。全ら未だ曾て有ず。礼ふべきや不や」と。  大臣稲目宿禰奏して曰さく、「西蕃の諸国、

## 検査Ⅱ

## 地理歴史

## 【選択問題】

一に皆礼ふ。豊秋日本、豈独り背かむや」と。物部大連尾輿・中臣連鎌子、同じく奏して曰さく、「我が国家の、天下に王とましますは、恒に天地社稷の百八十神を以て、春夏秋冬、祭りたまふことを事とす。方に今改めて蕃神を拝みたまはば、恐るらくは国神の怒を致したまはむ」と。天皇曰く、「情願ふ人稲目宿禰に付けて、試に礼ひ拝ましむべし」と。

(『日本書紀』)

- (1)  に当てはまる豪族の氏を何というか、漢字2字で答えなさい。
- (2) 【資料4】からは、在来の神を祀ることと、外来の仏を礼拝することへの対立が読み取れるが、のちに神仏習合がすすみ、本地垂迹説も生まれた。本地垂迹説の内容について、「本地」と「垂迹」のそれぞれの語句の意味に触れながら、簡潔に説明しなさい。
- (3) 仏教に関する出来事について述べた文として最も適当なものを次のア～エから1つ選び、記号で答えなさい。

- ア 奈良時代に空海は比叡山に延暦寺を建立した。
- イ 鎌倉時代に寺請制度が確立し、新仏教への改宗を強制した。
- ウ 室町時代に幕府は臨済宗を保護し、五山・十刹の制を整備した。
- エ 江戸時代に聖武天皇は国分寺・国分尼寺の建立を諸藩に命じた。

問7 下線部⑦に関連して、日本における中世は、おおよそ11世紀後半から16世紀後半までの期間を指す。この間に起きた出来事について述べた次のア～オを古い順に左から並び替え、記号で答えなさい。

- ア 北条泰時が御成敗式目（貞永式目）51カ条を制定した。
- イ 後三条天皇が延久の荘園整理令を出した。
- ウ 後醍醐天皇による親政が始まった。
- エ 天文法華の乱がおこった。
- オ 正長の徳政一揆がおこった。

## 検査Ⅱ 地理歴史 【選択問題】

2

次の記述は条約改正に興味を持った生徒が、書店で購入した書籍を読み、論文の項目別に重要部分を抜き出したレポートの一部である。これを読んで下記の問いに答えなさい。なお、漢字で解答すべき問題は漢字で答えなさい。

<生徒が抜き出したレポートの一部>

(小林和幸編『明治史講義【テーマ編】』所収 一部改)

問1 下線部①に関連して述べた文として適当でないものを次のア～エから1つ選び、記号で答えなさい。

- ア ペリーはフィルモア大統領の国書を提出した。
- イ 老中首座安藤信正は従来どおり朝廷への報告を行い、諸大名に意見を求めた。
- ウ 幕府は人材登用を行い、長崎に海軍伝習所を設けて洋式兵制を導入した。
- エ 幕府は国防の充実を図るため江戸湾に台場を築き、大船建造を解禁した。

問2 下線部②に関連して、条約にもとづきアメリカ総領事として下田に着任した人物を答えなさい。

問3 下線部③に関連して、貿易開始後に大量の金貨が海外に流出することとなったが、金貨流出の原因、幕府のとった対策、その対策が招いた経済的・社会的影響について簡潔に説明しなさい。

検査Ⅱ                      地理歴史                      【選択問題】

- 問4 空欄 ④ に当てはまる最も適当な語句を答えなさい。
- 問5 下線部⑤に関連して、この人物が条約改正を担当していた1882～1887年の間には、自由民権運動の激化や急進化がみられた。その中の1つに1884年の秩父事件が挙げられるが、この事件の要因について、秩父地方の産業の特徴に触れつつ、「生糸と繭価の下落」「負債の減免」の2語を用いて簡潔に説明しなさい。
- 問6 下線部⑤⑦に関連して、政府によって欧化政策が進められたことや、条約改正交渉そのものへの反対から、新聞や雑誌で論争が繰り返された。この時に新聞『日本』を刊行し、日本の自主自立と国民固有の思想の回復を主張した人物として最も適当な人物を次のア～オから1つ選び、記号で答えなさい。
- ア 徳富蘇峰    イ 島地黙雷    ウ 陸羯南    エ 高山樗牛    オ 内村鑑三
- 問7 空欄 ⑥ に当てはまる最も適当な語句を答えなさい。
- 問8 下線部⑧に関連して、次の【資料】は榎本武揚外相が1891年10月に閣議に提出した外交意見書の一部である。これについて下の問いに答えなさい。

**【資料】**

青木氏、大隈伯ノ後ヲ承テ談判ヲ続クニ至テ、遂ニ能ク殆ント対等条約ニ近キ立案ヲ提出シ、而シテ英政府ヲシテ二条項ヲ除ク外ハ其重要ノ部分ヲ承諾セシムルニ至リタルハ、殆ント意想外ノ結果ト謂ハサル可ラス。(中略) 抑モ亦一ハ井上大隈二伯ノ苦心焦慮ヨリ生セシ結果ト、一ハ亜洲全局ノ近況英政府ヲシテ深省ヲ発セシメシニアラスヤ。亜洲全局ノ近況トハ西伯里鉄道ノ起工是ナリ、蓋シ西伯里鉄道ハ英国ノ東洋ニ於ケル特権ヲ剥奪スルノ利器タルハ本官ノ贅言ヲ待タス。

『大日本外交文書』

- (1) 下線部の「青木氏」とは榎本武揚の前の外務大臣であるが、「青木氏」が条約改正交渉を中断し、外相を辞任せざるを得なかった出来事は何か答えなさい。
- (2) 条約改正を実現できた国際的な要因について、【資料】から読み取れるヨーロッパの2つの国の動きに触れながら、簡潔に説明しなさい。
- 問9 空欄 ⑨ に当てはまる人物を答えなさい。
- 問10 空欄 ⑩ に入る人物と、その人物の首相在任中の出来事についての組合せとして最も適当なものを次のア～ケから1つ選び、記号で答えなさい。
- X 吉田茂    Y 芦田均    Z 鳩山一郎
- a 保守合同により自由民主党が結成された。
- b 1ドル=360円の単一為替レートを設定した。
- c 政界に広まった疑獄事件である昭和電工事件が発生した。
- ア X・a    イ Y・a    ウ Z・a    エ X・b    オ Y・b    カ Z・b
- キ X・c    ク Y・c    ケ Z・c

## 検査Ⅱ 地理歴史 【選択問題】

3

次の文を読んで、下記の問いに答えなさい。

検査Ⅱ 地理歴史 【選択問題】

- 問1 下線部①に関連して、チンギス=カン（ハン）が、大モンゴル国（イェケ=モンゴル=ウルス）の軍事・行政組織として配下の遊牧民を編制した制度の名称を答えなさい。
- 問2 下線部①に関連して、テムジンが、チンギス=カン（ハン）として即位した1206年に最も近い時期に、ヨーロッパであった出来事として最も適当なものを次のア～エから1つ選び、記号で答えなさい。
- ア イギリスで、大憲章（マグナ=カルタ）が制定された。  
 イ カール4世が、金印勅書を発布した。  
 ウ イギリスでは、模範議会在が招集された。  
 エ 教皇が、フィリップ4世によって捕らえられたアナーニ事件が起こった。
- 問3 下線部②に関連して、モンゴル帝国2代目の皇帝オゴデイが滅ぼした国家（X・Y）と、国家の説明（a・b）の組合せとして最も適当なものを下のア～エから1つ選び、記号で答えなさい。
- X 西夏 Y 金  
 a 12世紀初め、ツングース系女真の完顔阿骨打（太祖）が建てた国家  
 b 11世紀前半に、チベット系のタングートが建てた国家  
 ア X-a イ X-b ウ Y-a エ Y-b
- 問4 下線部③に関連して、この系統に係する出来事として最も適当なものを次のア～エから1つ選び、記号で答えなさい。
- ア ヨーロッパ遠征をして、東ヨーロッパを制圧し、キプチャク=ハン国を建てた。  
 イ アッバース朝を滅ぼして、イル=ハン国を建てた。  
 ウ ホラズム=シャー朝を滅ぼした。  
 エ イスラーム教を受容し、カラ=ハン朝を建てた。
- 問5 下線部④に関連して、騎馬遊牧民が建国した王朝に関する出来事について述べた次のア～エを古い順に左から並び替え、記号で答えなさい。
- ア この王朝は、耶律阿保機（太祖）が統一し、渤海を滅ぼした。  
 イ この王朝は、唐の安史の乱に際して、軍事力で鎮圧に貢献した。  
 ウ この王朝は、第6代皇帝である孝文帝の時に、均田制と三長制を施行した。  
 エ この王朝は、柔然を滅ぼし、勢力をのばした。
- 問6 下線部⑤に関連して、クビライは、東南アジア各地への遠征を行った。元の遠征によって、東南アジアの諸国家が受けた影響について述べた次の文X・Yの正誤の組合せとして最も適当なものを下のア～エから1つ選び、記号で答えなさい。
- X 元の遠征を退け、ジャワではマジャパヒト朝が成立した。  
 Y 元の遠征を機に、マラッカ王国は、元と朝貢関係を結んだ。  
 ア X-正 Y-正 イ X-正 Y-誤 ウ X-誤 Y-正 エ X-誤 Y-誤

## 検査Ⅱ 地理歴史 【選択問題】

問7 下線部⑥に関連して、モンゴル帝国では、政治的には各ハン国に分裂していたものの、商業や文化交流は活発であったと言われる。このことについて、次の【資料1】に示す制度の名称とその内容を明らかにしつつ、商業や文化交流が活発であった理由について、【資料1】を参考にして簡潔に説明しなさい。

【資料1】 『世界の記述（東方見聞録）』

(歴史学研究会編『世界史史料4 東アジア・内陸アジア・東南アジアⅡ』一部改)

問8 【資料1】を口述筆記したとされるイタリアの商人の名前を答えなさい。

問9 下線部⑦に関連して、人やものが行き交うことで、文化や情報の流れも生まれた。このことについて述べた文として適当でないものを次のア～エから1つ選び、記号で答えなさい。

ア プラノ＝カルピニは、ローマ教皇に派遣されて元を訪れた。

イ フランス王ルイ9世は、ルブルックを元に派遣した。

ウ モンテ＝コルヴィノは、ローマ教皇から大都に派遣されてカトリックの布教にあたった。

エ イブン＝バットゥータは、東方旅行の記録「集史」を残した。

問10 下線部⑧に関連して、中国、ヨーロッパ、イスラーム世界のうち1つを選び、その地域で採られた税制について説明しなさい。ただし、地域を指定した上で「十分の一税」、「ジズヤ・ハラージュ」、「租・調・庸」のいずれかの語句を用いて答えること。

問11 下線部⑨に関連して、日本に銅銭が輸出された理由を簡潔に説明しなさい。

検査Ⅱ

地理歴史

【選択問題】

4

次の文を読んで、下記の問いに答えなさい。

(荒川正晴ほか編『岩波講座 世界歴史 11 構造化される世界 14～19 世紀』一部改)

問1 下線部①に関連して、清の時代の出来事について述べた次のア～エを古い順に左から並べ替え、記号で答えなさい。

ア 李自成の乱で明が滅びると、明の將軍呉三桂が清に降伏し、清は李自成を破って北京に遷都した。

イ 軍事と政治を迅速に処理するための機関として、軍機処が設けられた。

ウ 清は、ジュンガルを滅ぼし、東トルキスタンを支配下に入れ、新疆と名づけた。

エ ロシアとの間にネルチンスク条約が結ばれ、国境と通商に関する取り決めが定められた。

問2 下線部②に関連して、ロマノフ朝の君主(X・Y)と彼らの事績について述べた文(a・b)の組合せとして最も適当なものを下のア～エから1つ選び、記号で答えなさい。

X エカチェリーナ2世

Y ピョートル1世

a コサックの首長イェルマークに命じて、シベリア進出に着手した。

b スウェーデンと北方戦争を戦って勝利し、バルト海へ進出してサンクト＝ペテルブルクを建設した。

ア X-a      イ X-b      ウ Y-a      エ Y-b

問3 下線部③に関連して、ハプスブルク家の歴史について述べた文として適当でないものを次のア～エからすべて選び、記号で答えなさい。

ア スペイン・ハプスブルク家のカルロス1世は、レパントの海戦でオスマン帝国を破った。

イ フランス軍の侵入で始まったイタリア戦争では、ハプスブルク家とフランスのヴァロワ家がヨーロッパの覇権をかけて争い、ウエストファリア条約で終結した。

ウ 1438年以降、オーストリアのハプスブルク家が神聖ローマ皇帝位を世襲するようになった。

エ オーストリア継承戦争で鉱工業地帯のシュレジエンを失ったマリア＝テレジアは、長年敵対していたフランスと同盟した。

## 検査Ⅱ 地理歴史 【選択問題】

問4 下線部④に関連して、イスラーム建築の最高傑作の一つとされるタージ=マハルは、この3つの王朝のいずれかの君主によって造営されたものである。その君主の名前をA群から1つ選び、記号で答えなさい。また、その王朝について述べた文として最も適当なものをB群から1つ選び、記号で答えなさい。

A群：ア セリム1世 イ シャー=ジャハーン ウ イスマーイール1世

B群：エ この王朝は、15世紀半ば、ビザンツ帝国を滅ぼし、首都をコンスタンティノープル（イスタンブル）に遷した。

オ この王朝の都のイスファハーンは、「イスファハーンは世界の半分」と称賛されるほど、繁栄を極めた。

カ この王朝の3代皇帝は、貴族と官僚を、位階に応じて給与地と保持すべき騎兵・騎馬数を定めたマンサブダーリー制（マンサブダール制）のもとに組織した。

問5 下線部⑤に関連して、内閣が国王ではなく議会に対して責任を負う責任内閣制が成立した時の首相の名前を答えなさい。

問6 下線部⑥に関連して、16世紀後半にフランスで起きた宗教内乱を収束させるために、アンリ4世がおこなった政策について、【資料1】を参考に、「カトリック」「ユグノー」の2語を用い、また、アンリ4世が新たに開いた王朝名も明らかにして説明しなさい。

【資料1】 アンリ4世が1598年4月に出した王令（勅令）

（歴史学研究会編『世界史史料5 ヨーロッパ世界の成立と膨張』）一部改

問7 下線部⑦に関連して、中国への銀の大量流入の過程及びそれに伴う中国における税制の変化について、【資料2】を参考に、「メキシコ銀」「マニラ」の2語を用いて説明しなさい。

【資料2】『明史』食貨志（1739年）

（歴史学研究会編『世界史史料4 東アジア・内陸アジア・東南アジアⅡ』 一部改）

（注1）

（注2）

（注3）

- 問8 下線部⑧に関連して、19世紀に世界で起きた出来事として適当なものを次のア～オから2つ選び、記号で答えなさい。
- ア 中国では、南京で孫文が臨時大総統に選出され、中華民国の独立が宣言された。
  - イ インドネシアのバンドンでアジア＝アフリカ会議（バンドン会議）が開催され、平和十原則が発表された。
  - ウ イタリアは、エチオピアに侵入したが、アドワの戦いで敗れた。
  - エ ベトナムでは、ファン＝ボイ＝チャウらが維新会を結成し、日本へ留学生を送るドンズー（東遊）運動を始めた。
  - オ オスマン帝国では、ギュルハネ勅令が出されて、軍事・税制・教育などの西欧化をめざすタンジマートが始まった。
- 問9 下線部⑨に関連して、19世紀における交通・通信網の進展の状況を、「電信機」「レセップス」「蒸気船」の3語を用いて説明しなさい。

## 検査Ⅱ 地理歴史 【選択問題】

問 10 下線部⑩に関連して、17～18 世紀のヨーロッパ諸国の覇権抗争について述べた文として適当なものを次のア～エから2つ選び、記号で答えなさい。

ア 17 世紀前半、イギリスは、北アメリカにヴァージニア植民地を開き、ピューリタンなどがニューイングランド植民地を形成した。

イ 17 世紀、イギリスとフランスは、自由貿易政策をとってオランダの商業覇権に対抗した。

ウ イギリスは、1713 年のユトレヒト条約でフランスからカナダとミシシッピ川以東のルイジアナを、スペインからフロリダを獲得した。

エ イギリスがフランスに勝利した要因の1つは、イギリスが17 世紀末にイングランド銀行を創設し、信用度の高い国債を大量に発行することで、多くの戦費を調達できたことにある。

問 11 下線部⑪に関連して、20 世紀のアフリカ大陸で起きた出来事について述べた次の文 X・Y の正誤の組合せとして最も適当なものを下のア～エから1つ選び、記号で答えなさい。

X 第一次世界大戦後、アルジェリアでは、ワフド党を中心に独立運動が展開され、フランスから形式的な独立を果たした。

Y 1979 年、アメリカの仲介により、エジプトのナセル大統領は、イスラエルとエジプト＝イスラエル平和条約を結び、その結果、シナイ半島がエジプトに返還された。

ア X－正 Y－正    イ X－正 Y－誤    ウ X－誤 Y－正    エ X－誤 Y－誤

5

次の文章と生徒Aと生徒Bの産業についての会話文を読んで、下記の問いに答えなさい。

## 文章

(一般財団法人 日本貿易会サイト 「資源を知ろう！」 一部改)

## 会話文

A：ねえ、世界の産業構造ってどうなっているのだろう？なんか、国によって全然違うよね？

B：そうだよ、全然違うよね。例えば、私たちが授業で習ったように、⑤先進国では、経済のサービス化・情報化が進んで、就業人口における第3次産業の割合が高くなっているよね。アメリカとか日本はそうだよね。

A：あー、確かに。僕のお父さんもIT企業で働いているし、周りにもオフィスでパソコン使っ  
て働いている人の方が多いかも。

B：そう。でも、発展途上国、⑥特にアフリカやアジアの一部では、農業などの第1次産業や、  
第2次産業の中でも鉱産資源の産出に携わる人の割合が多いよね。

A：そっか、資源の分布の話ともつながるね。資源を採ったり、農作物を作ったりすることが主  
な仕事ってことだね。

B：そうそう。でも、1960年代以降アジア各地で急速に経済成長した国々は、輸出を目的とした  
製造業がすごく盛んになっているよね。特に中国なんて、世界の工場って感じがするよね。

A：あー、僕のスマホとか服とか、見たら「Made in China」って書いてあることが多いよね。こ  
れからは、もっとほかの国の製品も日本で目にすることもあるかな。

B：それは十分あると思うね。中国も経済成長が急速に進んでいるから、産業構造が変化する可  
能性は十分にあるよね。⑦最近だと特にアパレル産業では、バングラデシュに工場が移行し

## 検査Ⅱ

## 地理歴史

## 【選択問題】

ているって聞いたよ。

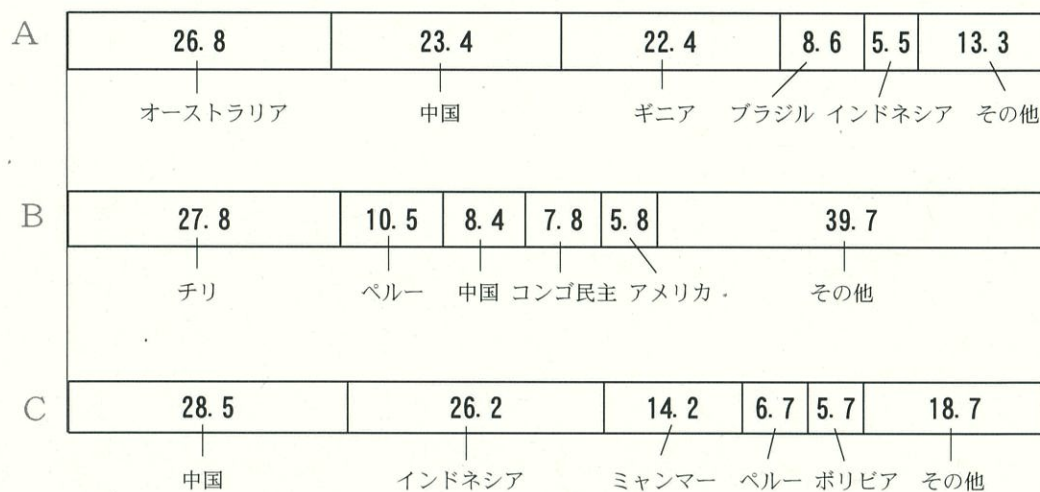
A：そうなんだね。じゃあ、資源の少ない日本は、これからどうなるのだろう。

B：日本は、資源はないけど、地場産業の刷新や、ハイテク産業に必要な高度部材の製造など、新分野の開発で国内工業を立て直していくべきだと思うね。

A：なるほど。世界の産業構造は、その国の資源や人件費、技術力なんかで大きく違うし、常に動いているのだね。僕らもそういう変化に対応できる力をつけたいよね。

問1 下線部①に関連して、図1のA～Cは、銅、ボーキサイト、すずの生産量上位5か国とその全体に占める割合を示している。図1中のA～Cと資源の組合せとして最も適当なものを下のア～カから1つ選び、記号で答えなさい。

図1 銅(2020年)、ボーキサイト(2021年)、すず(2019年)の生産量(%)



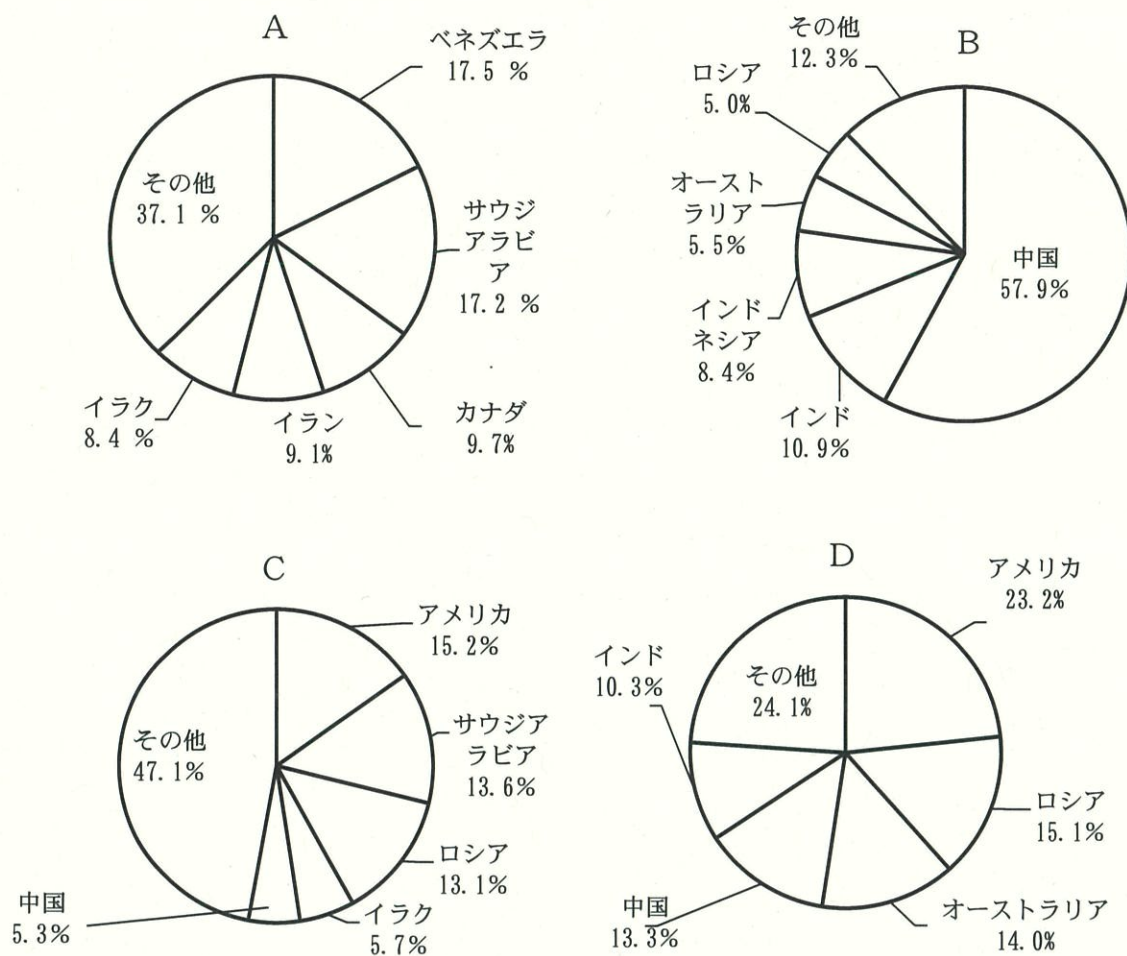
(二宮書店「データブック オブ・ザ・ワールド 2025」より作成)

- ア A-銅 B-ボーキサイト C-すず  
 イ A-銅 B-すず C-ボーキサイト  
 ウ A-ボーキサイト B-銅 C-すず  
 エ A-ボーキサイト B-すず C-銅  
 オ A-すず B-銅 C-ボーキサイト  
 カ A-すず B-ボーキサイト C-銅

問2 下線部②に関連して、次の問いに答えなさい。

- (1) 図2のA～Dは世界の原油埋蔵量(2020年)、原油産出量(2022年)、石炭埋蔵量(2020年、亜炭・褐炭など含)、石炭産出量(2021年)の上位5か国とその割合を示したものである。図2中のA及びBの指標の組合せとして最も適当なものを下のア～エから1つ選び、記号で答えなさい。

図2



(二宮書店「データブック オブ・ザ・ワールド 2025」より作成)

- |   |         |         |
|---|---------|---------|
| ア | A-原油生産量 | B-石炭生産量 |
| イ | A-原油生産量 | B-石炭埋蔵量 |
| ウ | A-原油埋蔵量 | B-石炭生産量 |
| エ | A-原油埋蔵量 | B-石炭埋蔵量 |

(2) 1970年代の2度のオイルショックによって、石油価格が高騰した。その後産油国と石油輸入国（特に欧米先進国）においてどのような変化があったか、「オイルマネー」「外国人労働者」「北海」の3語を用いて説明しなさい。

問3 下線部③に関連して、次の問いに答えなさい。

(1) 地図は、オーストラリアの鉄鉱石、石炭、金の主な産出地の位置を示したものである。地図中のX～Zと鉄鉱石、石炭、金の組合せとして最も適当なものを下のア～カから1つ選び、記号で答えなさい。

## 検査Ⅱ

## 地理歴史

## 【選択問題】

地図（オーストラリア）



（「Jacaranda Atlas 2007」他から作成）

- ア X－石炭 Y－鉄鉱石 Z－金  
 イ X－石炭 Y－金 Z－鉄鉱石  
 ウ X－鉄鉱石 Y－石炭 Z－金  
 エ X－鉄鉱石 Y－金 Z－石炭  
 オ X－金 Y－石炭 Z－鉄鉱石  
 カ X－金 Y－鉄鉱石 Z－石炭

(2) 1994年に成立した北米自由貿易協定（NAFTA、2020年にUSMCA成立により失効）によって、アメリカ合衆国では製造業が衰退する結果となった。アメリカ合衆国の製造業が衰退した理由について、「人件費」「貿易赤字」「空洞化」の3語を使用して説明しなさい。

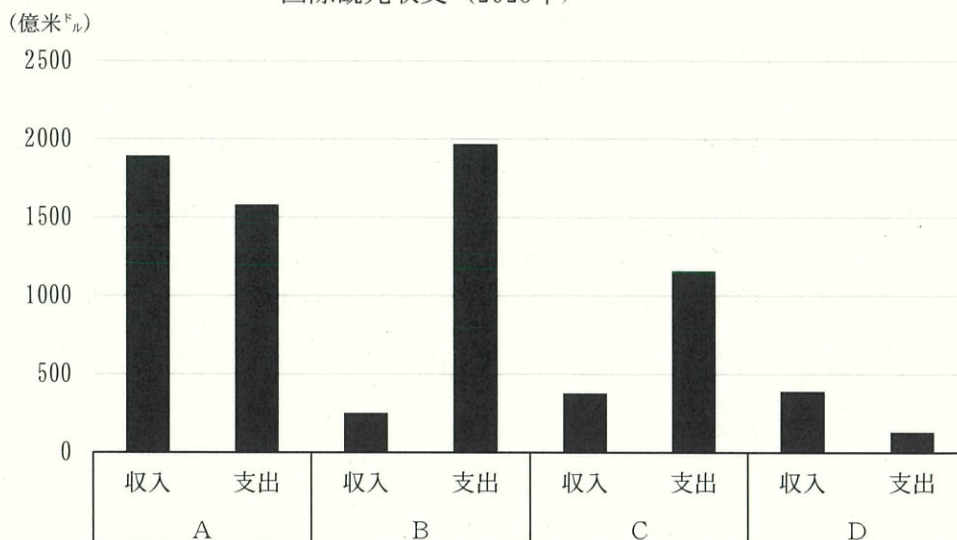
問4 下線部④に関連して、発電によって生じた廃熱を冷暖房に再利用するシステムを何というか、カタカナで答えなさい。

問5 下線部⑤に関連して、次の問いに答えなさい。

(1) サービス業の1つである観光業の国際収支は、各国の特色が反映される。図3のA～Dは、日本、中国、ドイツ、アメリカの国際観光収支を示したものである。ドイツとアメリカに該当する組合せとして最も適当なものを下のア～エから1つ選び、記号で答えなさい。

検査Ⅱ 地理歴史 【選択問題】

図3 国際観光収支（2023年）



(国土交通省資料「観光の動向」より作成)

- ア アメリカーA ドイツーC    イ アメリカーA ドイツーD  
 ウ アメリカーB ドイツーC    エ アメリカーB ドイツーD

(2) 日本のハイテク産業について述べた次の文X・Yの正誤の組合せとして最も適当なものを下のア～エから1つ選び、記号で答えなさい。

X 日本の集積回路(IC)生産工場は、情報が集積する首都圏をはじめとする大都市近郊に集中する傾向がみられる。

Y 日本はハイテク産業の土台となる研究開発に官民とも力を入れており、その研究開発費はアメリカ合衆国よりも高い。

- ア Xー正 Yー正    イ Xー正 Yー誤  
 ウ Xー誤 Yー正    エ Xー誤 Yー誤

問6 下線部⑥に関連して、次の問いに答えなさい。

(1) アフリカやアジアの一部では、特定の一次産品の輸出に経済全体が大きく依存する状況の国がある。このような経済構造を何というか、答えなさい。

(2) 戦後、一次産品の生産と輸出に頼っていた東南アジアでは、20世紀後半から急速に工業化が進展したことで、近年産業構造が大きく変化する国々も現れてきた。図4のA～Cは、2023年のインドネシア、ベトナム、マレーシアの第1次産業人口率と、輸出額上位4品目が輸出額全体に占める割合をまとめたものである。図4のA～Cの国名の組合せとして最も適当なものを下のア～カから1つ選び、記号で答えなさい。

## 検査Ⅱ

## 地理歴史

## 【選択問題】

図4 第1次産業人口率と輸出額上位4品目が輸出額全体に占める割合(2023年)

A (%)			B (%)			C (%)		
第1次産業人口率		10.0	第1次産業人口率		33.6	第1次産業人口率		29.3
輸 出 品 目	機械類	44.3	輸 出 品 目	機械類	45.7	輸 出 品 目	石炭	16.0
	石油製品	9.4		衣類	9.5		鉄鋼	9.7
	液化天然ガス	4.2		履物	6.6		パーム油	9.5
	精密機械	3.9		家具	3.5		機械類	7.4

(二宮書店「データブック オブ・ザ・ワールド 2025」より作成)

- ア A-インドネシア B-ベトナム C-マレーシア  
 イ A-インドネシア B-マレーシア C-ベトナム  
 ウ A-ベトナム B-マレーシア C-インドネシア  
 エ A-ベトナム B-インドネシア C-マレーシア  
 オ A-マレーシア B-インドネシア C-ベトナム  
 カ A-マレーシア B-ベトナム C-インドネシア

問7 下線部⑦に関連して、バングラデシュに進出するアパレル産業の企業には、製造施設を自  
 社が保有せず、自社製品の生産を外部の他社に委託することで、企画・開発に特化するもの  
 もある。このような企業を何と云うか明記しつつ、なぜ生産分野をバングラデシュに移すの  
 か、理由を説明しなさい。

検査Ⅱ

地理歴史

【選択問題】

6

次の文を読んで、下記の問いに答えなさい。

検査Ⅱ                      地理歴史                      【選択問題】

問1 下線部①に関連して、表1は、オランダ、イギリス、スペイン、ポルトガルの宗教別人口割合を示したものである。オランダに該当するものとして最も適当なものを表1のア～エから1つ選び、記号で答えなさい。

表1 宗教別人口割合

ア	カトリック 30%、プロテスタント 20%、イスラーム 6%
イ	キリスト教（主に国教会派） 72%、イスラーム 3%
ウ	カトリック 77%、イスラーム 3%
エ	カトリック 85%

（二宮書店「地理統計要覧 2024 年度版」より作成）

問2 下線部②に関連して、日米和親条約で日本が開いた港のうち、トンボロの地形である港の名称を答え、トンボロとはどのような地形か、説明しなさい。

問3 下線部③に関連して、ラテンアメリカ諸国と旧宗主国の組合せとして最も適当なものを次のア～エから1つ選び、記号で答えなさい。

ア メキシコーアメリカ                      イ ジャマイカーフランス

ウ スリナムーイギリス                      エ ブラジルーポルトガル

問4 下線部④に関連して、次の問いに答えなさい。

(1) オランダ・ベルギー間とオランダ・日本間の人の移動方法の違いについて、「シェンゲン協定」の語を用いて、その内容に触れながら説明しなさい。

(2) 表2はオランダ、イギリス、ドイツ、フランスの金額による輸出相手国上位5か国とその割合を示したものである。表2のA～Dのうち、オランダとドイツに該当する組合せとして最も適当なものを次のア～エから1つ選び、記号で答えなさい。

表2 金額による輸出相手国の割合（2022年） （%）

A	D	13.7	イタリア	9.2	アメリカ	7.9	ベルギー	7.9	スペイン	7.6
B	D	24.5	ベルギー	12.0	A	8.1	C	6.0	アメリカ	4.7
C	アメリカ	12.1	B	8.3	D	7.8	中 国	6.7	ス イ ス	6.6
D	アメリカ	9.9	A	7.3	B	6.8	中 国	6.8	ポーランド	5.7

（二宮書店「地理統計要覧 2024 年度版」より作成）

ア Aーオランダ Cードイツ                      イ Aーオランダ Dードイツ

ウ Bーオランダ Cードイツ                      エ Bーオランダ Dードイツ

検査Ⅱ 地理歴史 【選択問題】

(3) EU について述べた次の文 X・Y の正誤の組合せとして最も適当なものを下のア～エから 1 つ選び、記号で答えなさい。

X 石炭資源と鉄鋼業を共同管理下におくことを目的とした ECSC などが統合されて EC が成立し、さらに単一市場を目指す動きが加速され、EU が成立した。

Y EU 域内の食料自給率の向上や農家所得の安定のため、公的資金を投入して農産物の価格を保証していたが、生産過剰で財政負担の増大が課題となってきた。

ア X-正 Y-正 イ X-正 Y-誤 ウ X-誤 Y-正 エ X-誤 Y-誤

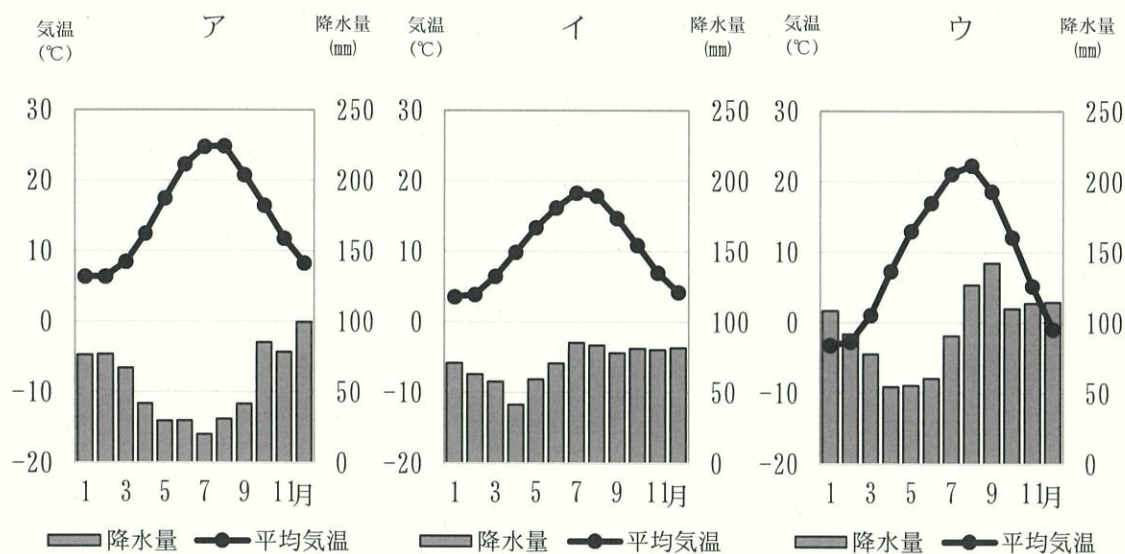
問 5 空欄 ⑤ に当てはまる語をカタカナ 5 文字で答えなさい。

問 6 空欄 ⑥ に当てはまる港の名前をカタカナで答えなさい。

問 7 下線部⑦に関連して、風車は干拓でどのような役割を果たしたか。この地域で吹く恒常風の名称と「ポルダー」という語を用いて説明しなさい。

問 8 下線部⑧に関連して、雨温図ア～ウは、デビルト（オランダ）、イスタンブール（トルコ）、札幌のものである。デビルト（オランダ）のものとして最も適当なものを 1 つ選び、記号で答えなさい。

雨温図



(気象庁公表データより作成)

検査Ⅱ 地理歴史 【選択問題】

問9 下線部⑨に関連して、表3は、オランダ、イタリア、スイス、ノルウェーの土地利用割合を示したものである。表3のA～Dのうち、オランダとスイスに該当する組合せとして最も適当なものを下のア～エから1つ選び、記号で答えなさい。

表3 土地利用割合（2020年） (%)

	耕地・樹園地	牧場・牧草地	森林
A	31.3	12.6	32.3
B	30.9	22.9	11.0
C	10.8	27.3	32.1
D	2.2	0.5	33.4

(二宮書店「地理統計要覧2024年度版」より作成)

- ア A-オランダ C-スイス      イ A-オランダ D-スイス  
 ウ B-オランダ C-スイス      エ B-オランダ D-スイス